

【鏡時計読み】

反転アナログ時計 1分刻み

No.010

名前 _____

かがみどけい はり さ じこく か

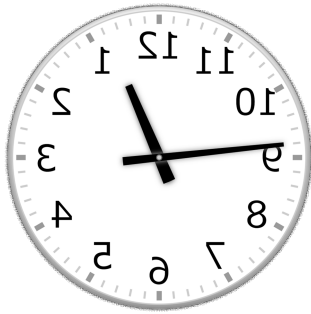
★鏡時計の針が指している時刻を書きましょう

分 秒

正解数

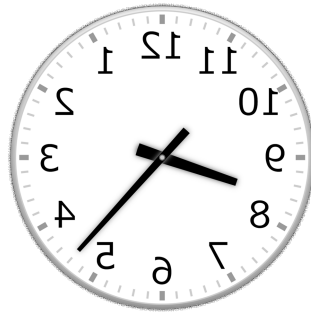
/ 9

①



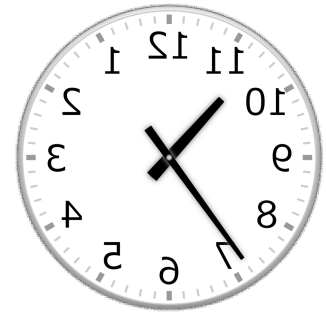
時 分

②



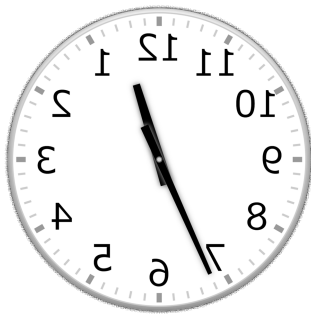
時 分

③



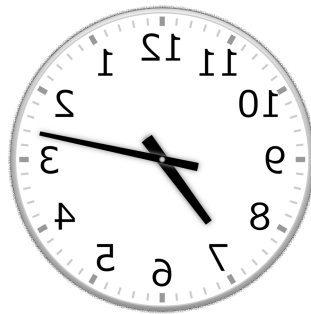
時 分

④



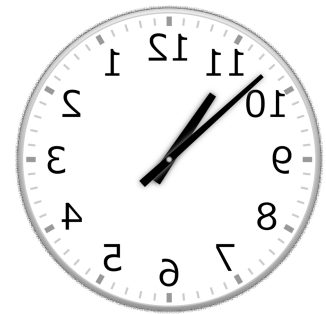
時 分

⑤



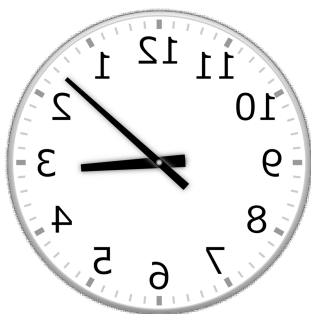
時 分

⑥



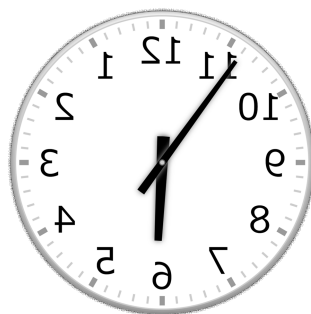
時 分

⑦



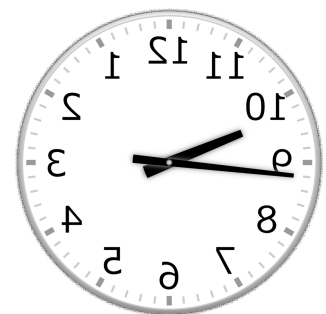
時 分

⑧



時 分

⑨



時 分

【鏡時計読み】

反転アナログ時計 1分刻み

No.010

かがみどけい はり さ じこく か

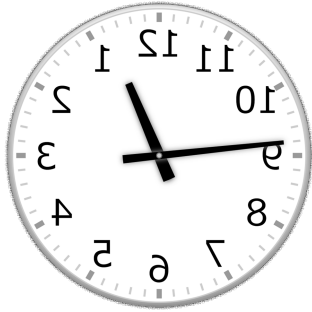
★鏡時計の針が指している時刻を書きましょう

分 秒

正解数

/9

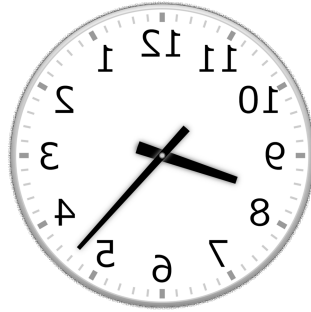
①



12時 46分

(0時 46分)

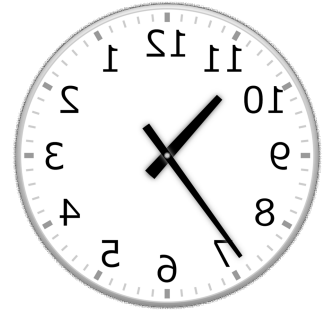
②



8時 23分

(20時 23分)

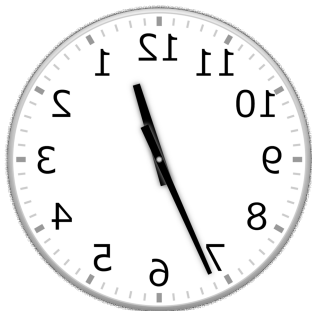
③



10時 36分

(22時 36分)

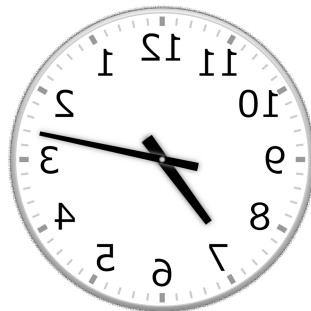
④



12時 34分

(0時 34分)

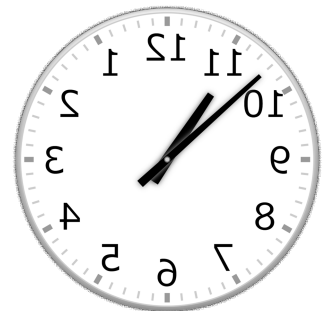
⑤



7時 13分

(19時 13分)

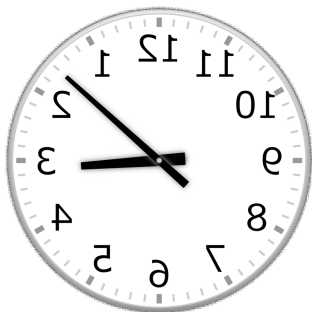
⑥



10時 52分

(22時 52分)

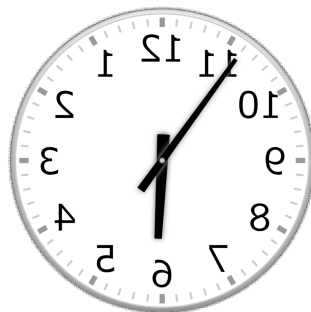
⑦



3時 8分

(15時 8分)

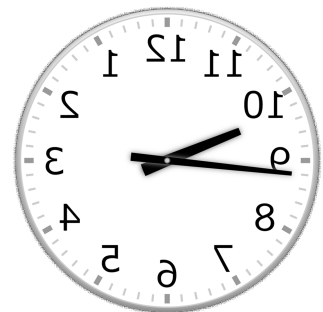
⑧



5時 54分

(17時 54分)

⑨



9時 44分

(21時 44分)