

# 【鏡時計読み】

反転アナログ時計 1分刻み

No.009

名前 \_\_\_\_\_

かがみどけい はり さ じこく か


★鏡時計の針が指している時刻を書きましょう

分 秒

正解数

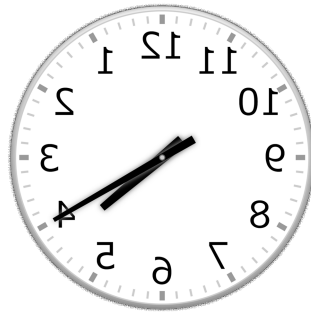
/ 9

①




時 分

②




時 分

③



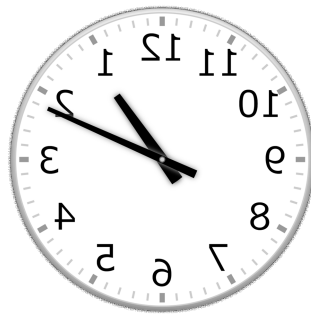
時 分

④




時 分

⑤



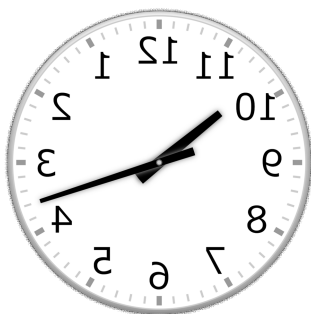
時 分

⑥



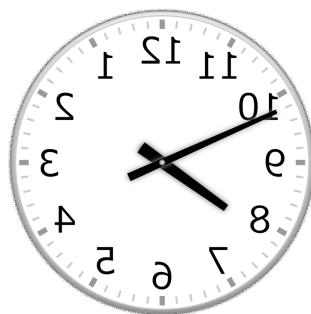
時 分

⑦




時 分

⑧



時 分

⑨



時 分

# 【鏡時計読み】

反転アナログ時計 1分刻み

No.009

名前 \_\_\_\_\_

かがみどけい はり さ じこく か


★鏡時計の針が指している時刻を書きましょう

分 秒

正解数

/ 9

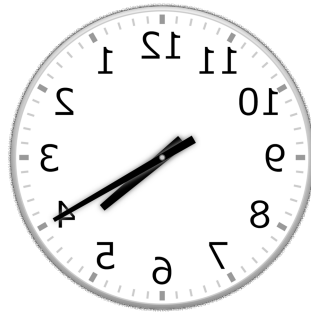
①



12時 7分

(0時 7分)

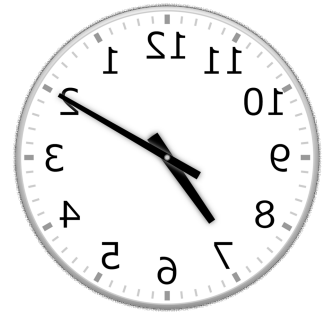
②



4時 20分

(16時 20分)


③



7時 10分

(19時 10分)

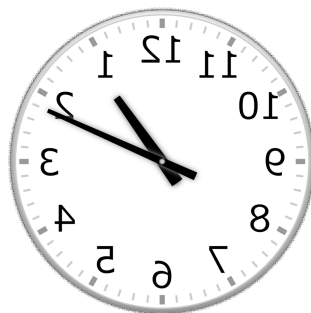
④



6時 42分

(18時 42分)


⑤



1時 11分

(13時 11分)

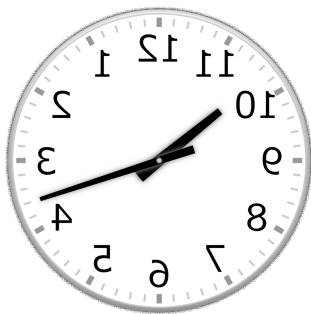
⑥



3時 57分

(15時 57分)


⑦



10時 18分

(22時 18分)

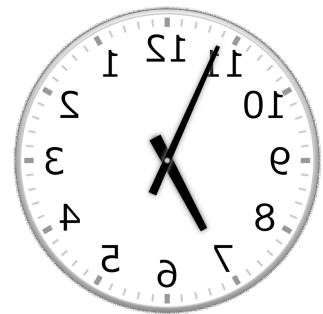
⑧



7時 49分

(19時 49分)

⑨



6時 56分

(18時 56分)