

【鏡時計読み】

反転アナログ時計 1分刻み

No.008

名前 _____

かがみどけい はり さ じこく か

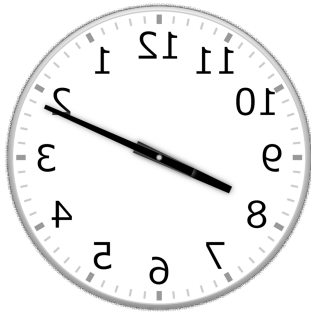
★鏡時計の針が指している時刻を書きましょう

分 秒

正解数


/ 9

①




時 分

②



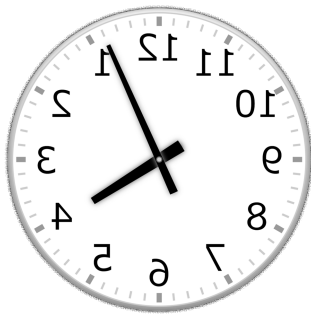
時 分

③



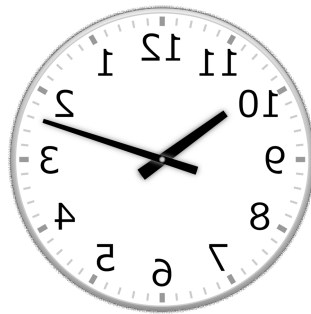
時 分

④




時 分

⑤



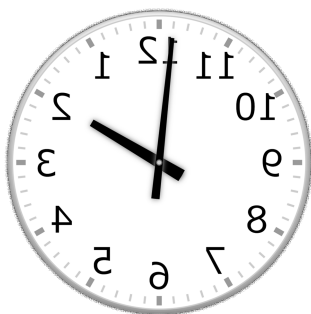
時 分

⑥




時 分

⑦




時 分

⑧



時 分

⑨



時 分

【鏡時計読み】

反転アナログ時計 1分刻み

No.008

名前 _____

かがみどけい はり さ じこく か

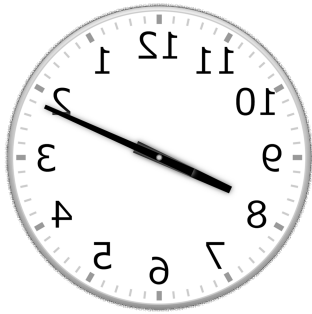
★鏡時計の針が指している時刻を書きましょう

分 秒

正解数

/ 9


①



8時 11分

(20時 11分)


②



10時 55分

(22時 55分)


③



5時 54分

(17時 54分)

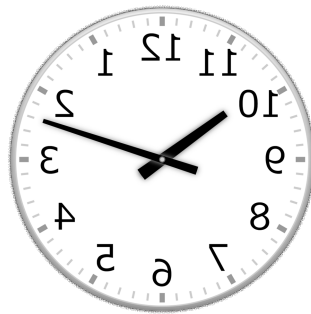
④



4時 4分

(16時 4分)


⑤



10時 12分

(22時 12分)

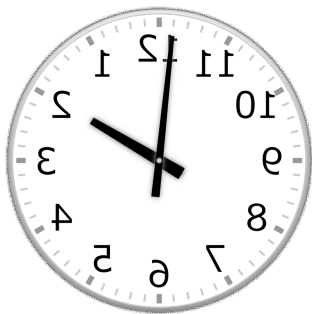
⑥



3時 34分

(15時 34分)

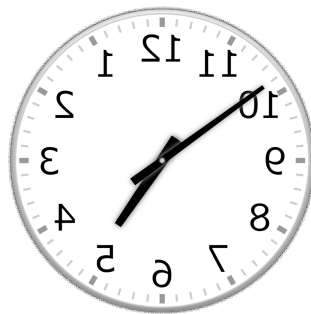
⑦



1時 59分

(13時 59分)

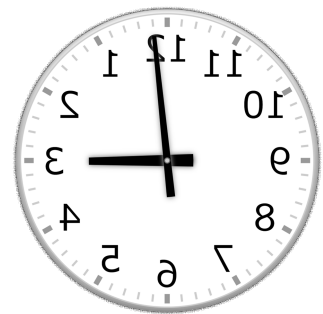
⑧



4時 51分

(16時 51分)

⑨



3時 1分

(15時 1分)