

【鏡時計読み】

反転アナログ時計 1分刻み

No.007

名前 _____

かがみどけい はり さ じこく か

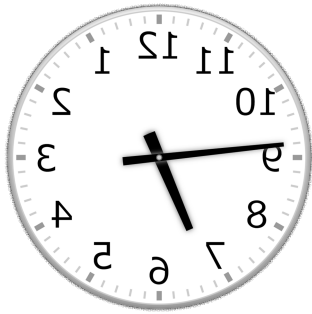
★鏡時計の針が指している時刻を書きましょう

分 秒

正解数

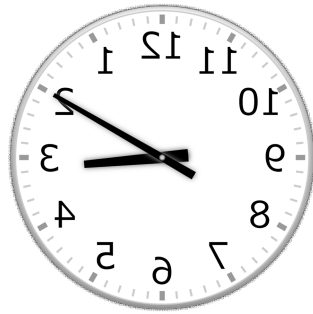
/9

①



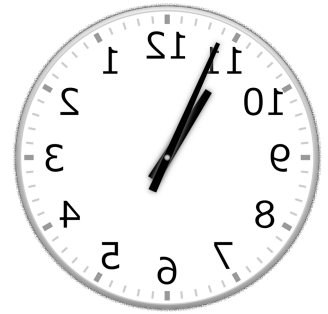
時 分

②



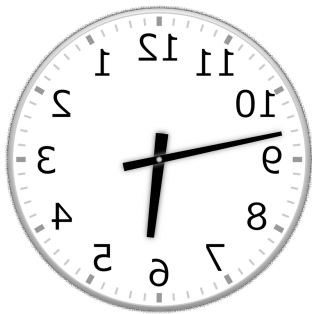
時 分

③




時 分

④




時 分

⑤



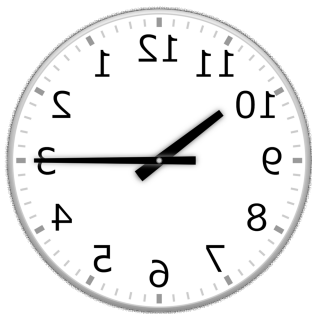
時 分

⑥



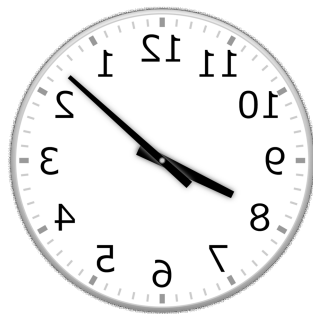
時 分

⑦




時 分

⑧



時 分

⑨



時 分

【鏡時計読み】

反転アナログ時計 1分刻み

No.007

名前 _____

かがみどけい はり さ じこく か

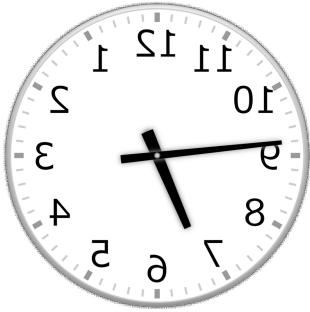
★鏡時計の針が指している時刻を書きましょう

分 秒

正解数

/ 9

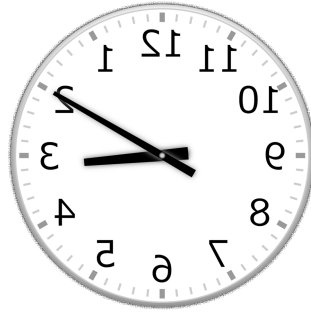
①



6時 46分

(18時 46分)

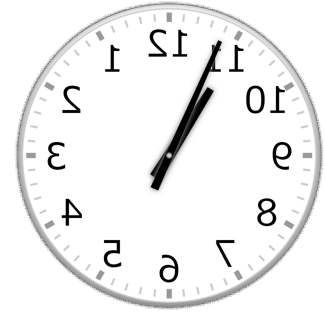
②



3時 10分

(15時 10分)


③



10時 56分

(22時 56分)


④



5時 47分

(17時 47分)

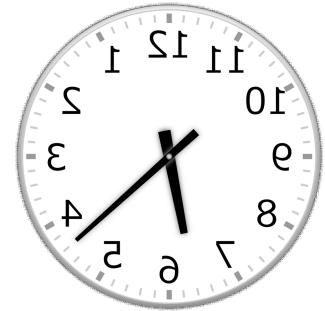
⑤



2時 1分

(14時 1分)

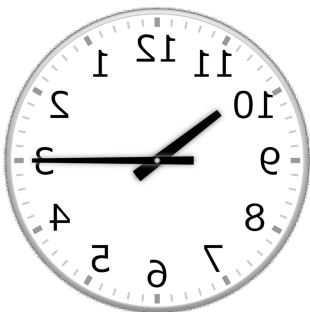
⑥



6時 22分

(18時 22分)

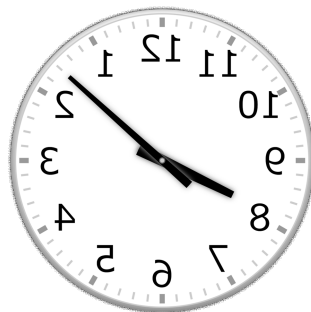
⑦



10時 15分

(22時 15分)


⑧



8時 8分

(20時 8分)

⑨



4時 11分

(16時 11分)