

【鏡時計読み】

反転アナログ時計 1分刻み

No.005

名前 _____

かがみどけい はり さ じこく か

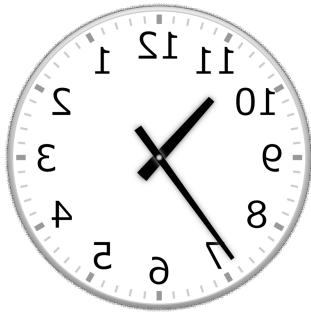
★鏡時計の針が指している時刻を書きましょう

分 秒

正解数

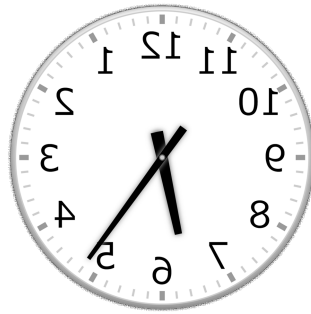
/ 9

①




時 分

②



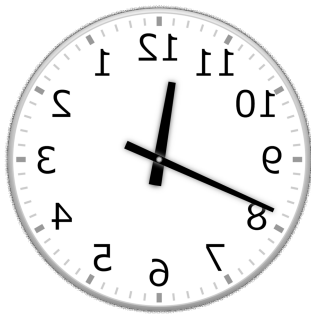
時 分

③



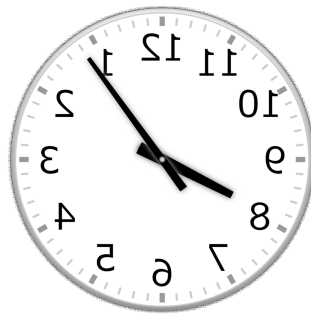
時 分

④




時 分

⑤



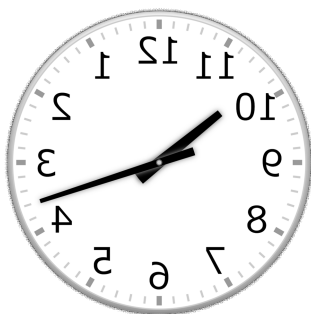
時 分

⑥



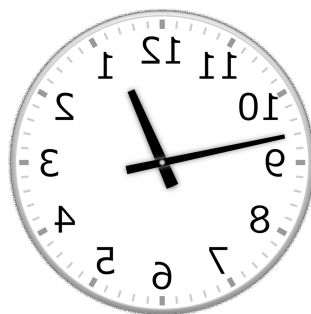
時 分

⑦



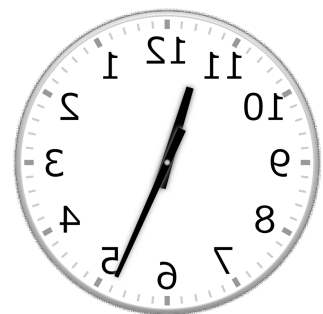
時 分

⑧



時 分

⑨



時 分

【鏡時計読み】

反転アナログ時計 1分刻み

名前 _____

No.005

かがみどけい はり さ じこく か

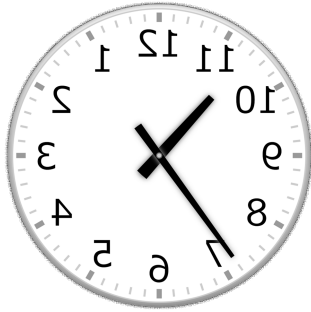
★鏡時計の針が指している時刻を書きましょう

分 秒

正解数

/ 9


①



10時 36分

(22時 36分)


②



6時 24分

(18時 24分)


③



1時 29分

(13時 29分)

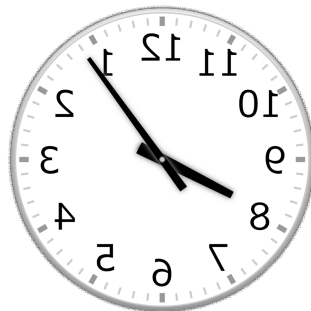
④



11時 41分

(23時 41分)

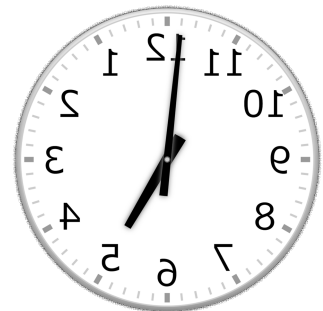
⑤



8時 6分

(20時 6分)

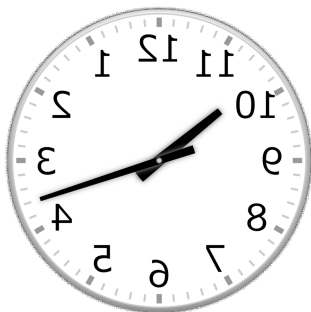
⑥



4時 59分

(16時 59分)

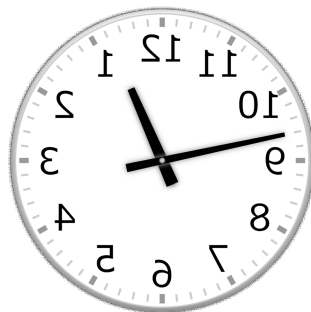
⑦



10時 18分

(22時 18分)

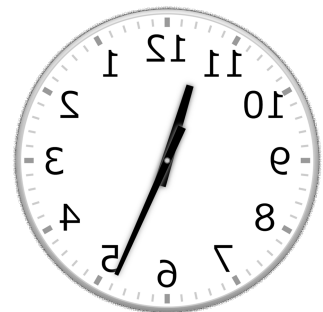
⑧



12時 47分

(0時 47分)

⑨



11時 26分

(23時 26分)