

# 【鏡時計読み】

反転アナログ時計 1分刻み

No.004

名前 \_\_\_\_\_

かがみどけい はり さ じこく か


★鏡時計の針が指している時刻を書きましょう

分 秒

正解数

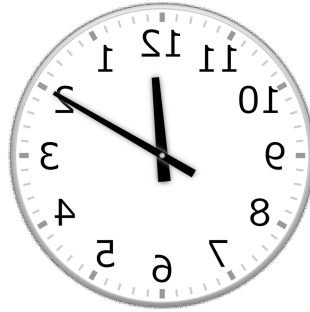
/ 9

①



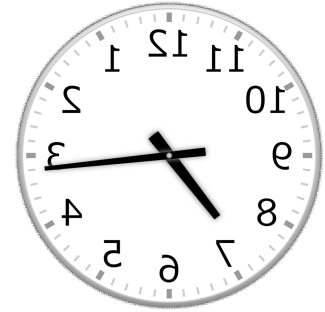
時 分

②




時 分

③



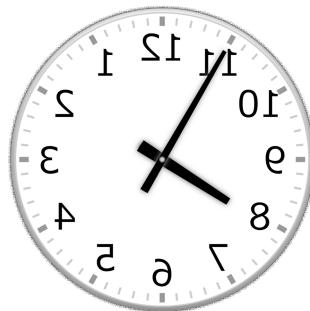
時 分

④



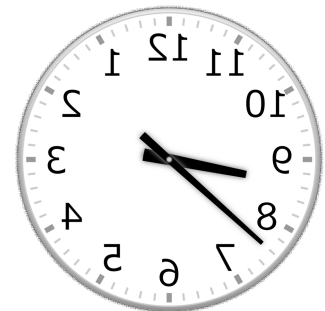
時 分

⑤




時 分

⑥



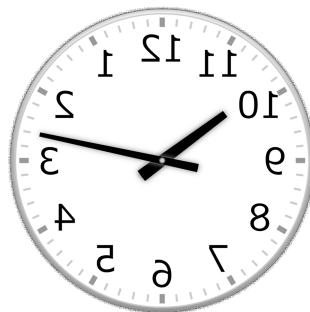
時 分

⑦




時 分

⑧



時 分

⑨



時 分

# 【鏡時計読み】

反転アナログ時計 1分刻み

No.004

名前 \_\_\_\_\_

かがみどけい はり さ じこく か


★鏡時計の針が指している時刻を書きましょう

分 秒

正解数

/9

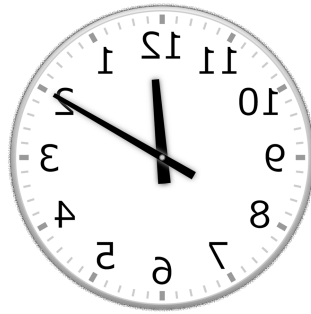
①



6時 20分

(18時 20分)


②



12時 10分

(0時 10分)

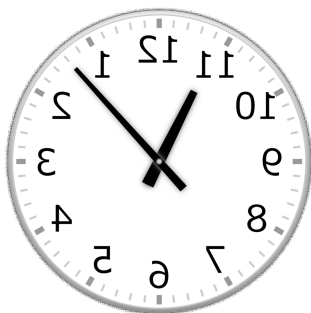
③



7時 16分

(19時 16分)

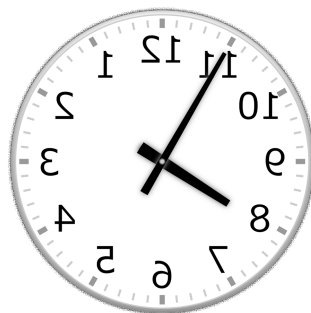
④



11時 7分

(23時 7分)

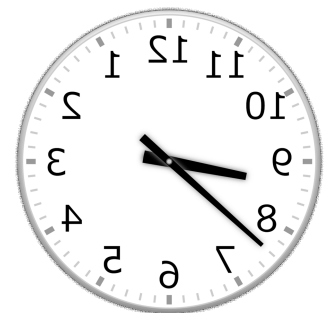
⑤



7時 55分

(19時 55分)


⑥



8時 38分

(20時 38分)

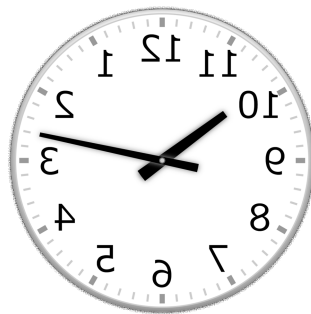
⑦



2時 24分

(14時 24分)


⑧



10時 13分

(22時 13分)

⑨



6時 54分

(18時 54分)