

# 【鏡時計読み】

反転アナログ時計 1分刻み

名前 \_\_\_\_\_

No.003

かがみどけい はり さ じこく か

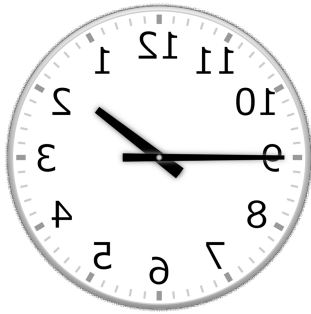
★鏡時計の針が指している時刻を書きましょう

分 秒

正解数


/ 9

①




時 分

②



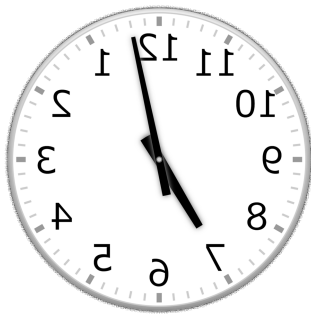
時 分

③



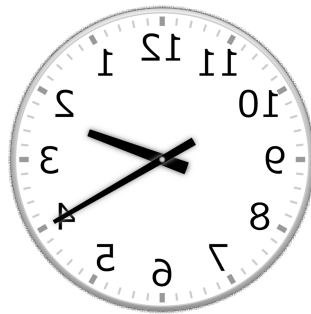
時 分

④



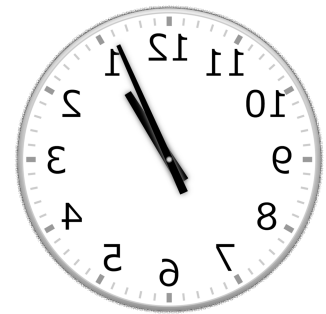
時 分

⑤



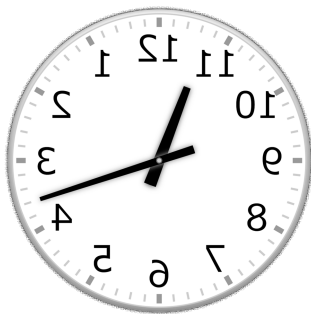
時 分

⑥



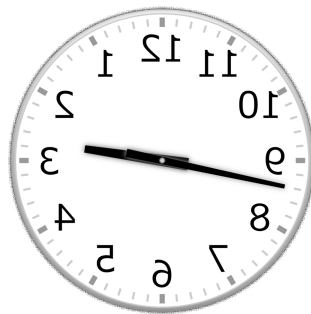
時 分

⑦



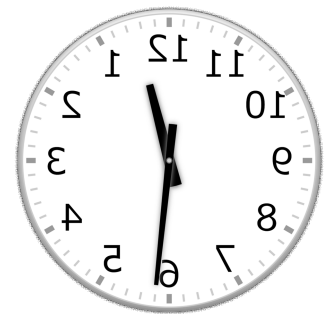
時 分

⑧



時 分

⑨



時 分

# 【鏡時計読み】

反転アナログ時計 1分刻み

名前 \_\_\_\_\_

No.003

かがみどけい はり さ じこく か

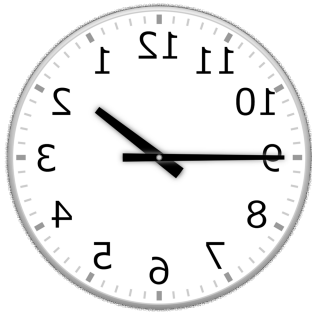
★鏡時計の針が指している時刻を書きましょう

分 秒

正解数

/ 9


①



1時 45分

(13時 45分)


②



10時 21分

(22時 21分)

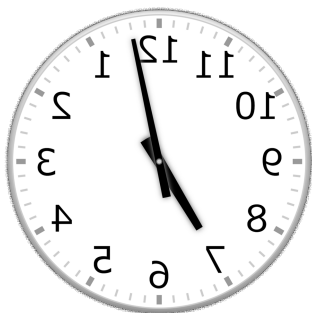
③



5時 37分

(17時 37分)

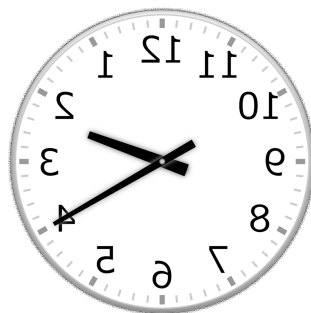
④



7時 2分

(19時 2分)

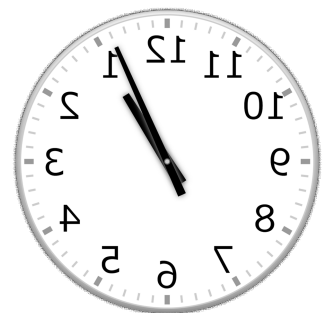
⑤



2時 20分

(14時 20分)


⑥



1時 4分

(13時 4分)

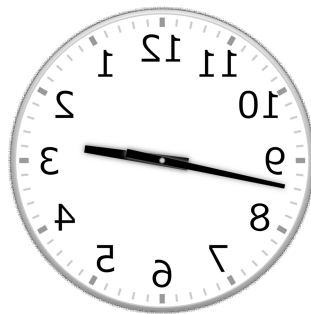
⑦



11時 18分

(23時 18分)

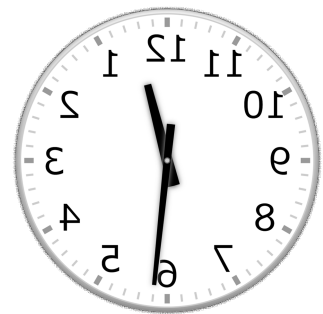
⑧



2時 43分

(14時 43分)

⑨



12時 29分

(0時 29分)