

【鏡時計読み】

反転アナログ時計 1分刻み

No.002

名前 _____

かがみどけい はり さ じこく か


★鏡時計の針が指している時刻を書きましょう

分 秒

正解数

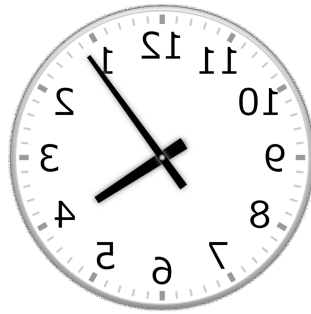
/ 9

①




時 分

②



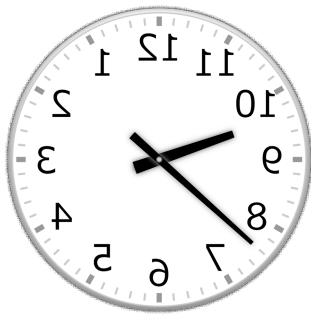
時 分

③



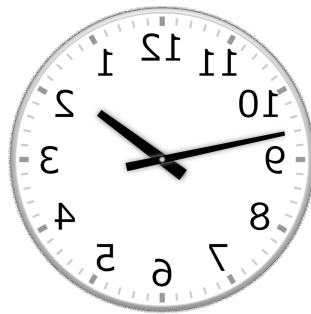
時 分

④



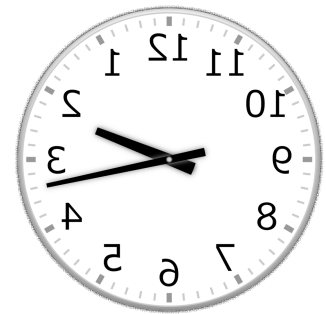
時 分

⑤



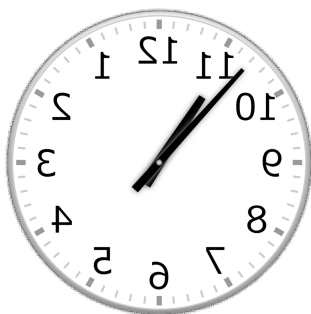
時 分

⑥



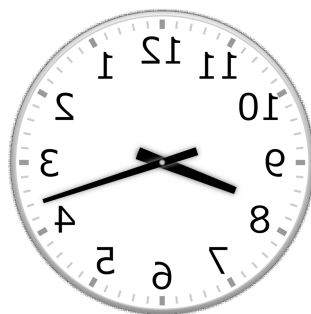
時 分

⑦




時 分

⑧



時 分

⑨



時 分

【鏡時計読み】

反転アナログ時計 1分刻み

名前 _____

No.002

かがみどけい はり さ じこく か

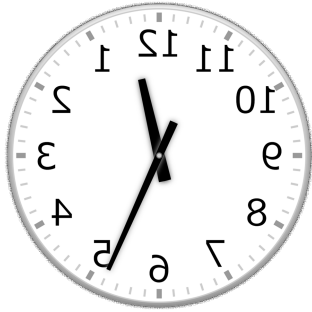
★鏡時計の針が指している時刻を書きましょう

分 秒

正解数

/9

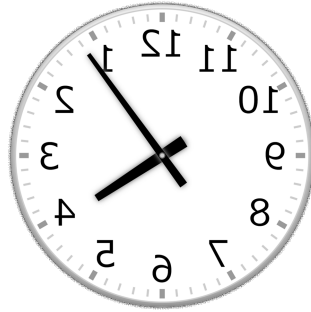
①



12時 26分

(0時 26分)

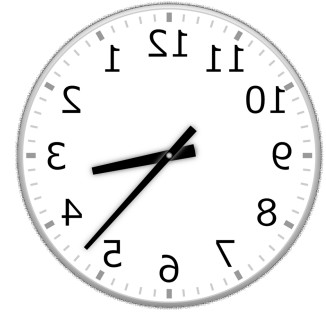
②



4時 6分

(16時 6分)

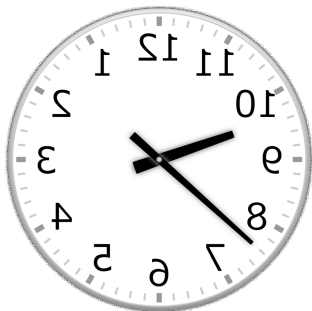
③



3時 23分

(15時 23分)

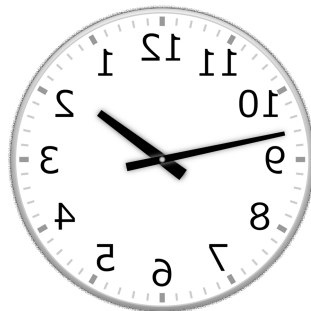
④



9時 38分

(21時 38分)

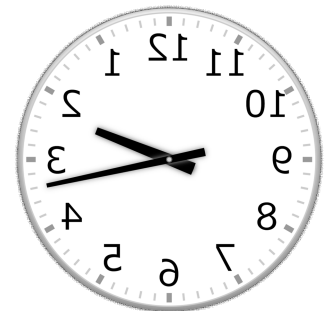
⑤



1時 47分

(13時 47分)

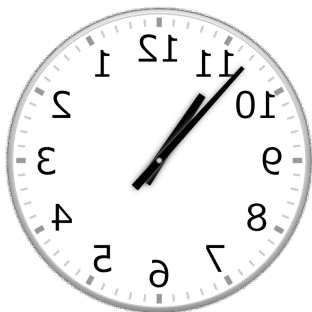
⑥



2時 17分

(14時 17分)

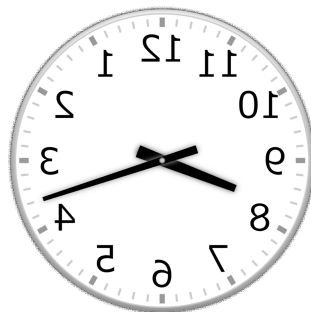
⑦



10時 53分

(22時 53分)


⑧



8時 18分

(20時 18分)

⑨



5時 4分

(17時 4分)