

【鏡時計読み】

反転アナログ時計 1分刻み

名前 _____

No.001

かがみどけい はり さ じこく か


★鏡時計の針が指している時刻を書きましょう

分 秒

正解数

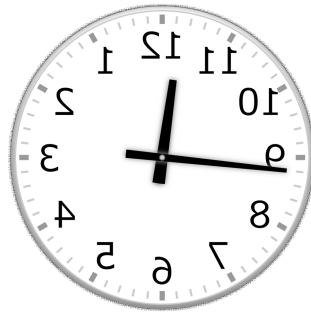
/9

①




時 分

②



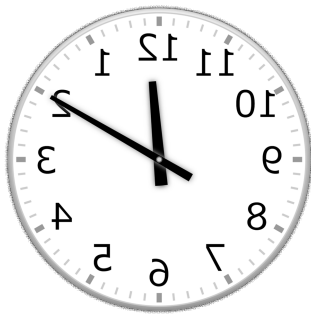
時 分

③



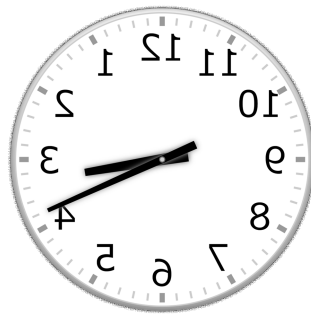
時 分

④



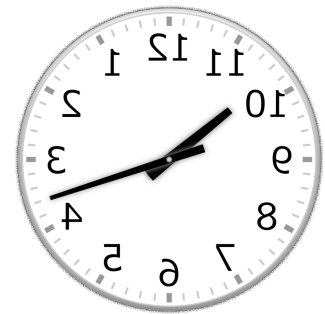
時 分

⑤



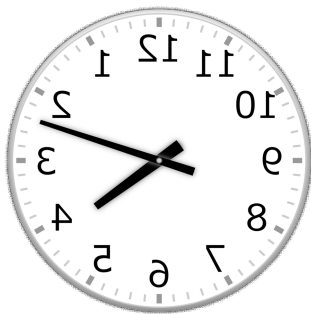
時 分

⑥



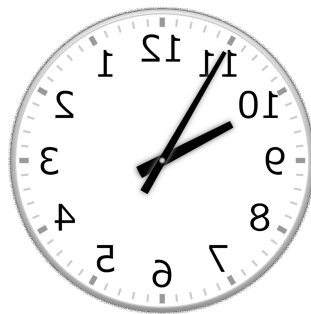
時 分

⑦




時 分

⑧



時 分

⑨



時 分

【鏡時計読み】

反転アナログ時計 1分刻み

名前 _____

No.001

かがみどけい はり さ じこく か


★鏡時計の針が指している時刻を書きましょう

分 秒

正解数

/ 9

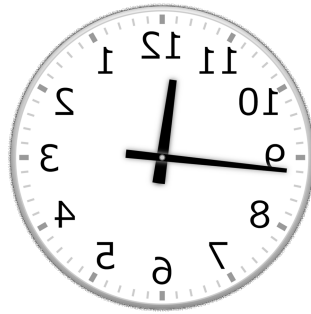
①



2時 56分

(14時 56分)


②



11時 44分

(23時 44分)


③



4時 26分

(16時 26分)

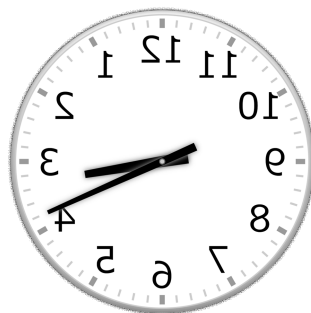
④



12時 10分

(0時 10分)

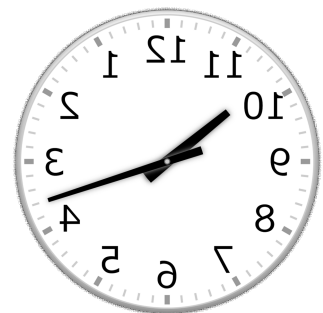
⑤



3時 19分

(15時 19分)

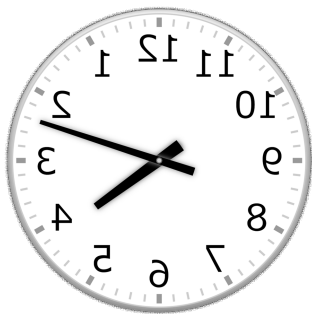
⑥



10時 18分

(22時 18分)

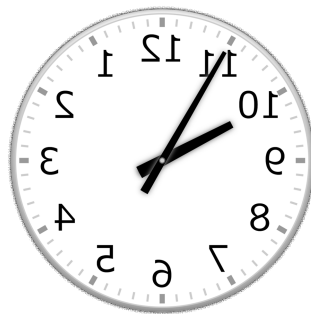
⑦



4時 12分

(16時 12分)


⑧



9時 55分

(21時 55分)

⑨



6時 20分

(18時 20分)