

# 【鏡時計読み】

反転アナログ時計 1分刻み

名前 \_\_\_\_\_

No.001

かがみどけい はり さ じこく か

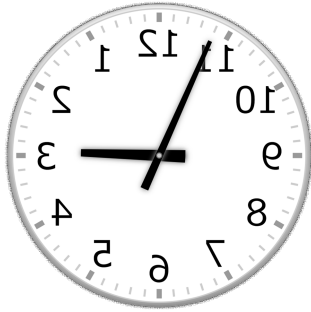
★鏡時計の針が指している時刻を書きましょう

分 秒

正解数

/ 9

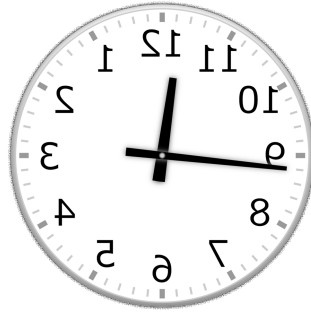
①



2時 56分

(14時 56分)


②



11時 44分

(23時 44分)

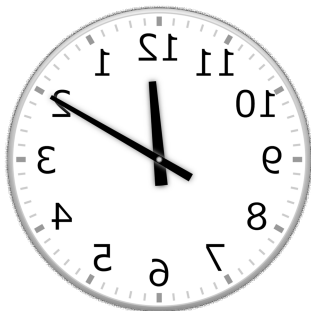
③



4時 26分

(16時 26分)

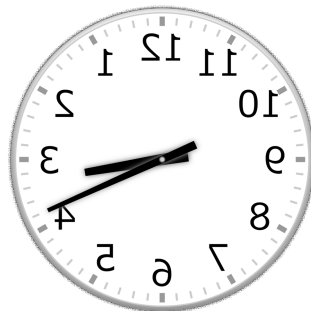
④



12時 10分

(0時 10分)

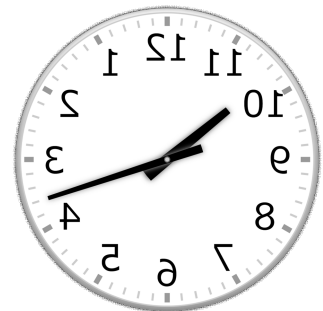
⑤



3時 19分

(15時 19分)

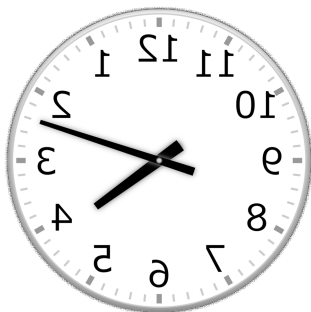
⑥



10時 18分

(22時 18分)

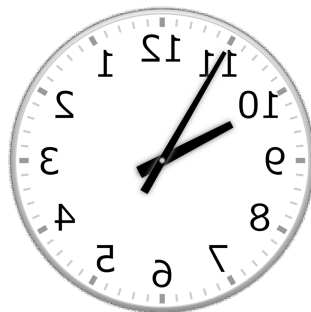
⑦



4時 12分

(16時 12分)


⑧



9時 55分

(21時 55分)

⑨



6時 20分

(18時 20分)

# 【鏡時計読み】

反転アナログ時計 1分刻み

名前 \_\_\_\_\_

No.002

かがみどけい はり さ じこく か


★鏡時計の針が指している時刻を書きましょう

分 秒

正解数

/ 9

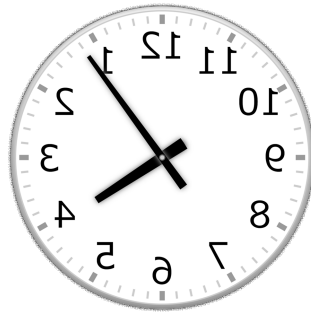
①



12時 26分

(0時 26分)


②



4時 6分

(16時 6分)

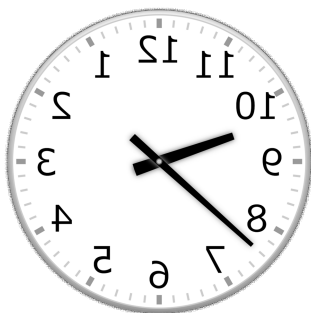
③



3時 23分

(15時 23分)

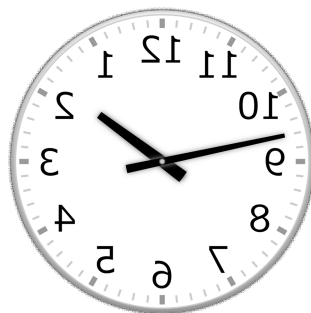
④



9時 38分

(21時 38分)

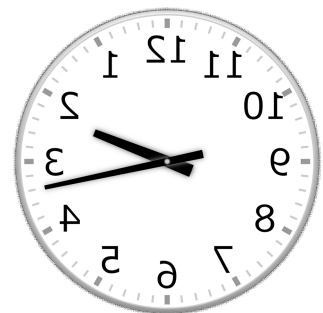
⑤



1時 47分

(13時 47分)

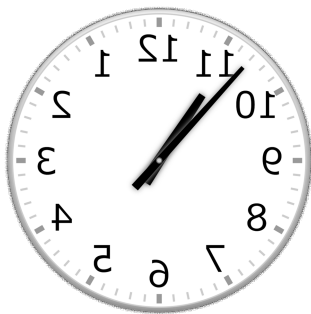
⑥



2時 17分

(14時 17分)

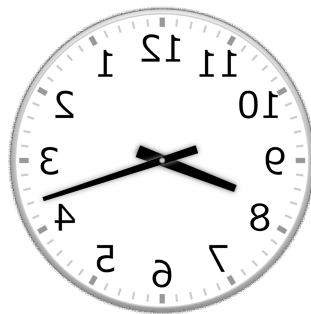
⑦



10時 53分

(22時 53分)


⑧



8時 18分

(20時 18分)

⑨



5時 4分

(17時 4分)

# 【鏡時計読み】

反転アナログ時計 1分刻み

名前 \_\_\_\_\_

No.003

かがみどけい はり さ じこく か

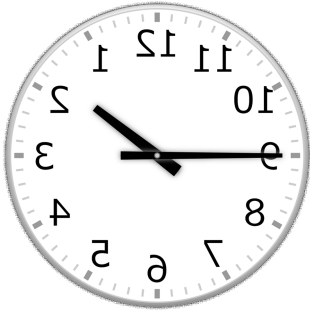
★鏡時計の針が指している時刻を書きましょう

分 秒

正解数

/ 9

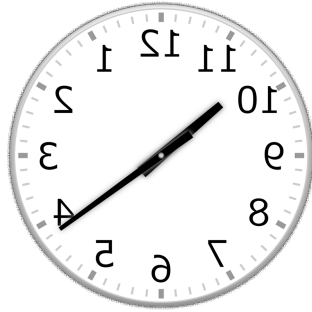
①



1時 45分

(13時 45分)


②



10時 21分

(22時 21分)

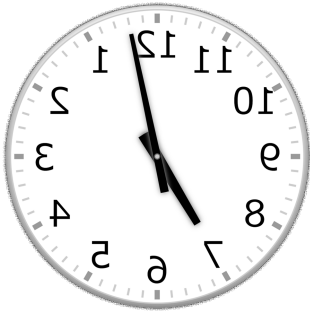
③



5時 37分

(17時 37分)

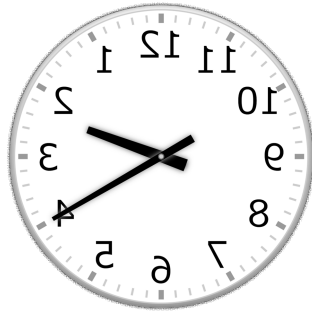
④



7時 2分

(19時 2分)

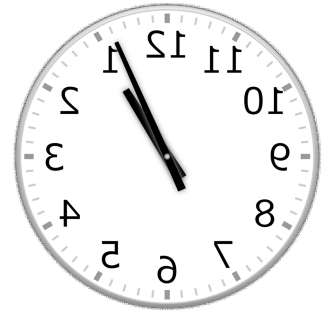
⑤



2時 20分

(14時 20分)

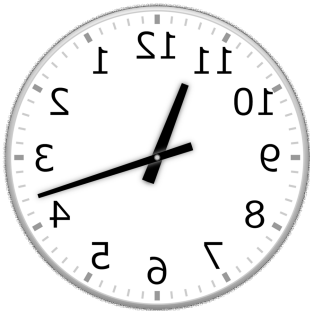
⑥



1時 4分

(13時 4分)

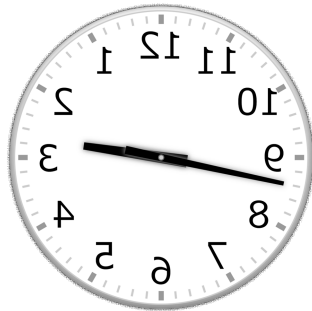
⑦



11時 18分

(23時 18分)

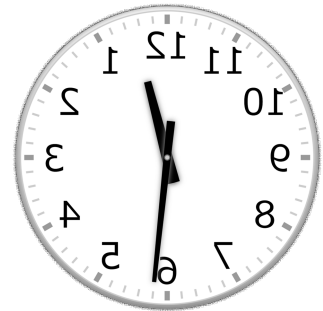
⑧



2時 43分

(14時 43分)

⑨



12時 29分

(0時 29分)

# 【鏡時計読み】

反転アナログ時計 1分刻み

名前 \_\_\_\_\_

No.004

かがみどけい はり さ じこく か


★鏡時計の針が指している時刻を書きましょう

分 秒

正解数

/9

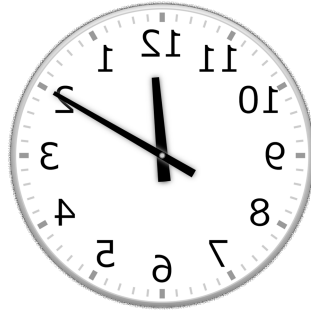
①



6時 20分

(18時 20分)

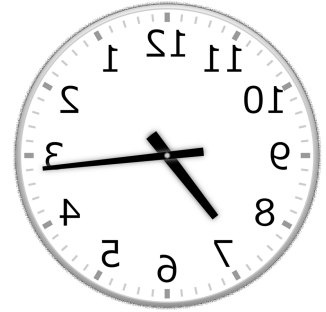
②



12時 10分

(0時 10分)


③



7時 16分

(19時 16分)

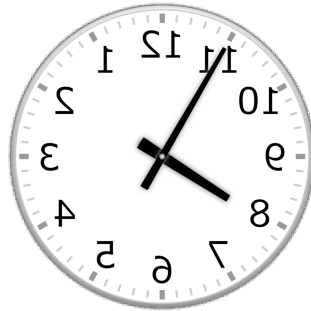
④



11時 7分

(23時 7分)


⑤



7時 55分

(19時 55分)


⑥



8時 38分

(20時 38分)

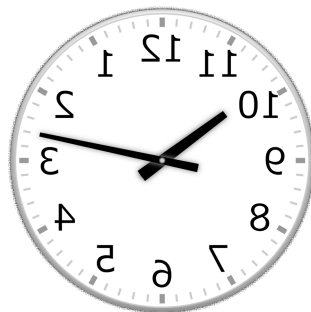
⑦



2時 24分

(14時 24分)


⑧



10時 13分

(22時 13分)

⑨



6時 54分

(18時 54分)

# 【鏡時計読み】

反転アナログ時計 1分刻み

名前 \_\_\_\_\_

No.005

かがみどけい はり さ じこく か

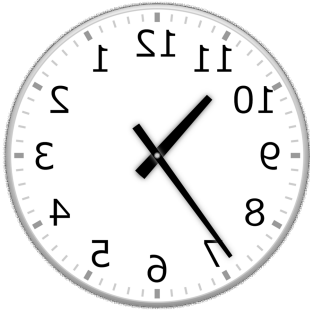
★鏡時計の針が指している時刻を書きましょう

分 秒

正解数

/ 9


①



10時 36分

(22時 36分)


②



6時 24分

(18時 24分)


③



1時 29分

(13時 29分)


④



11時 41分

(23時 41分)


⑤



8時 6分

(20時 6分)


⑥



4時 59分

(16時 59分)

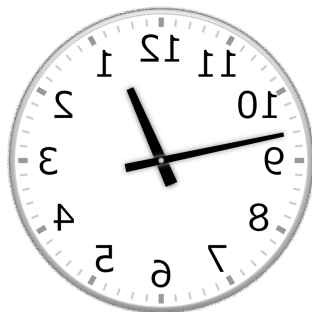
⑦



10時 18分

(22時 18分)

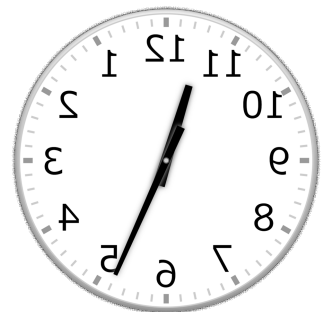
⑧



12時 47分

(0時 47分)

⑨



11時 26分

(23時 26分)

# 【鏡時計読み】

反転アナログ時計 1分刻み

No.006

名前 \_\_\_\_\_

かがみどけい はり さ じこく か

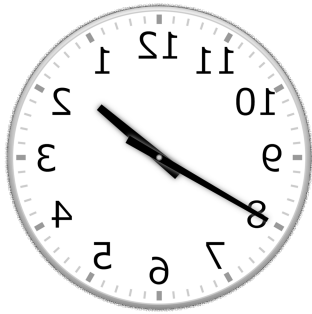
★鏡時計の針が指している時刻を書きましょう

分 秒

正解数

/ 9

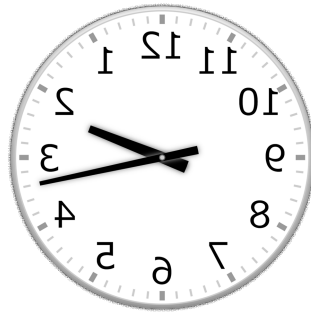
①



1時 40分

(13時 40分)

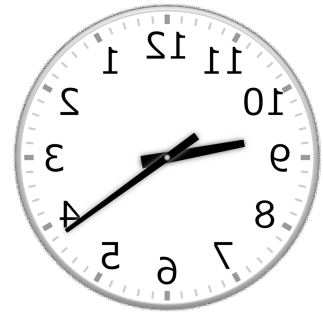
②



2時 17分

(14時 17分)


③



9時 21分

(21時 21分)

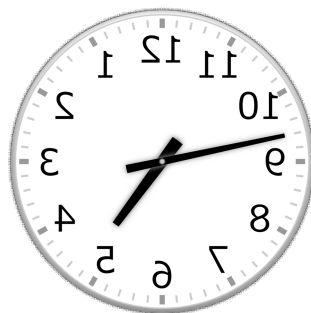
④



5時 34分

(17時 34分)

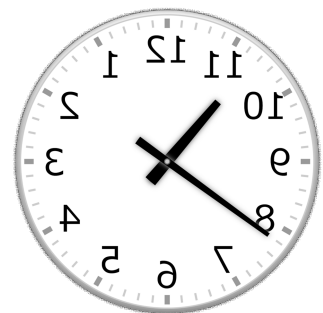
⑤



4時 47分

(16時 47分)

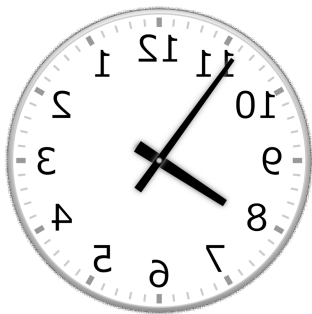
⑥



10時 39分

(22時 39分)

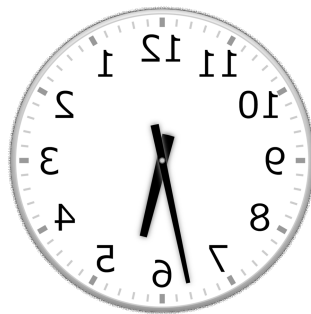
⑦



7時 54分

(19時 54分)


⑧



5時 32分

(17時 32分)

⑨



2時 6分

(14時 6分)

# 【鏡時計読み】

反転アナログ時計 1分刻み

No.007

名前 \_\_\_\_\_

かがみどけい はり さ じこく か

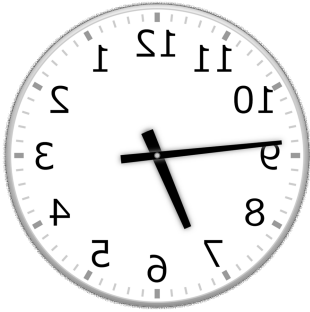
★鏡時計の針が指している時刻を書きましょう

分 秒

正解数

/ 9

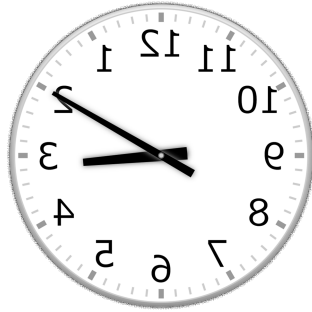
①



6時 46分

(18時 46分)


②



3時 10分

(15時 10分)


③



10時 56分

(22時 56分)


④



5時 47分

(17時 47分)


⑤



2時 1分

(14時 1分)

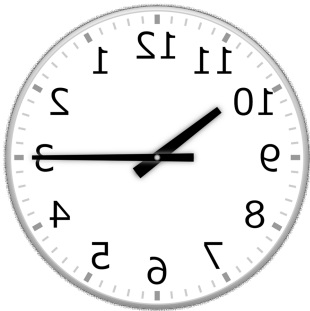
⑥



6時 22分

(18時 22分)

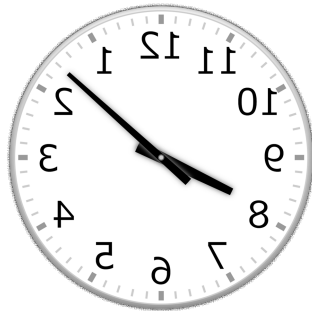
⑦



10時 15分

(22時 15分)

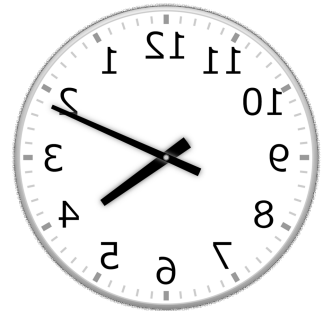
⑧



8時 8分

(20時 8分)

⑨



4時 11分

(16時 11分)

# 【鏡時計読み】

反転アナログ時計 1分刻み

No.008

かがみどけい はり さ じこく か

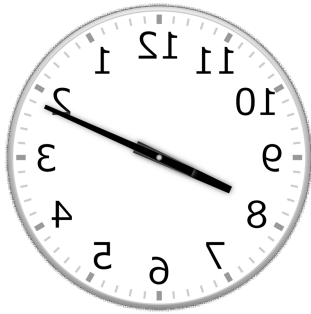
★鏡時計の針が指している時刻を書きましょう

分 秒

正解数

/ 9


①



8時 11分

(20時 11分)


②



10時 55分

(22時 55分)

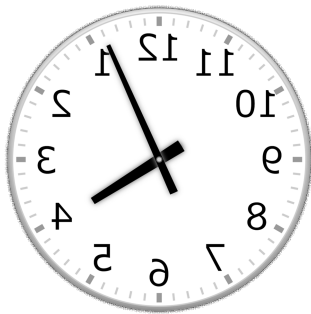
③



5時 54分

(17時 54分)

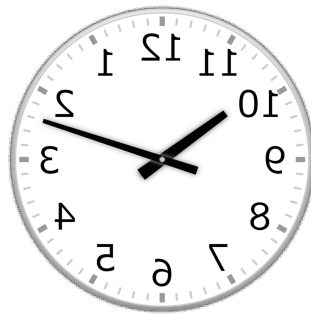
④



4時 4分

(16時 4分)


⑤



10時 12分

(22時 12分)

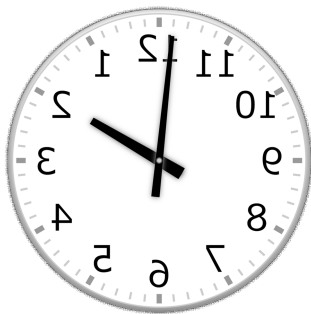
⑥



3時 34分

(15時 34分)

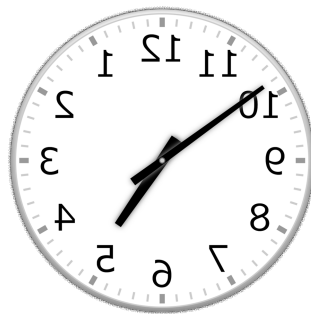
⑦



1時 59分

(13時 59分)

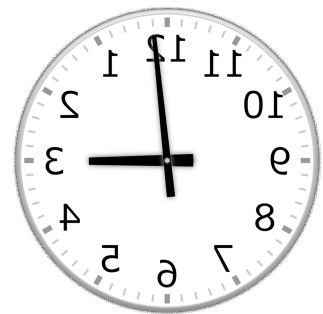
⑧



4時 51分

(16時 51分)

⑨



3時 1分

(15時 1分)



# 【鏡時計読み】

反転アナログ時計 1分刻み

No.009

かがみどけい はり さ じこく か


★鏡時計の針が指している時刻を書きましょう

分 秒

正解数

/ 9

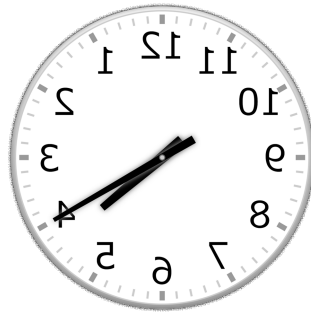
①



12時 7分

(0時 7分)


②



4時 20分

(16時 20分)


③



7時 10分

(19時 10分)

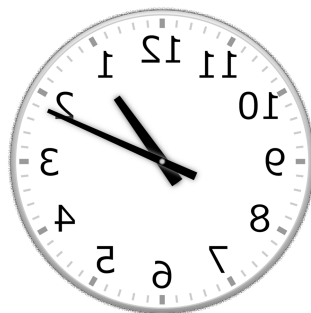
④



6時 42分

(18時 42分)

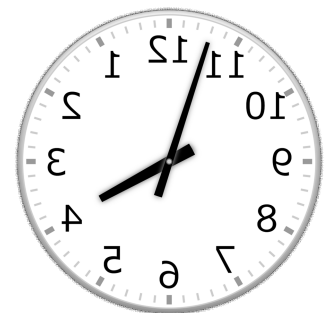
⑤



1時 11分

(13時 11分)

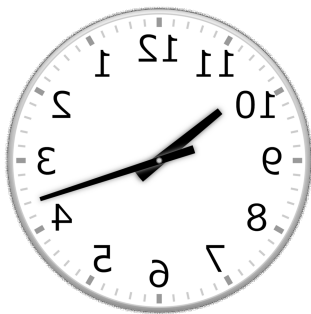
⑥



3時 57分

(15時 57分)


⑦



10時 18分

(22時 18分)


⑧



7時 49分

(19時 49分)

⑨



6時 56分

(18時 56分)

# 【鏡時計読み】

反転アナログ時計 1分刻み

名前 \_\_\_\_\_

No.010

かがみどけい はり さ じこく か

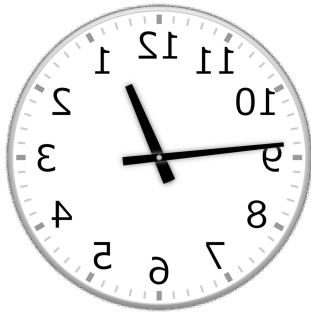
★鏡時計の針が指している時刻を書きましょう

分 秒

正解数

/ 9

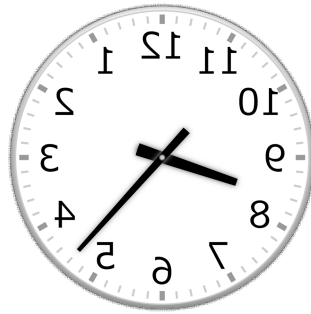
①



12時 46分

(0時 46分)

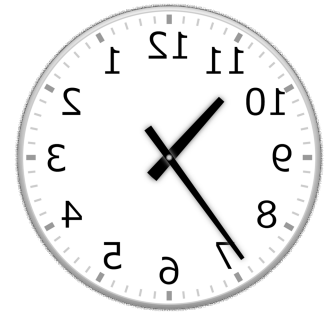
②



8時 23分

(20時 23分)

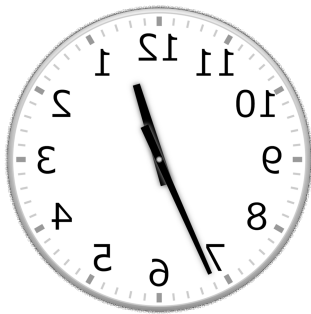
③



10時 36分

(22時 36分)

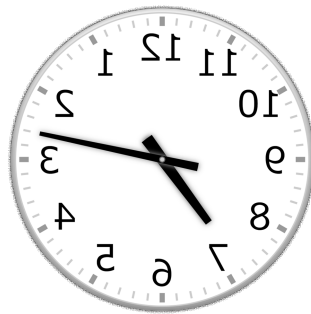
④



12時 34分

(0時 34分)

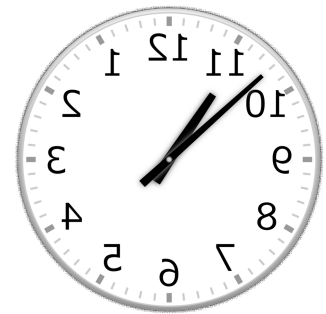
⑤



7時 13分

(19時 13分)

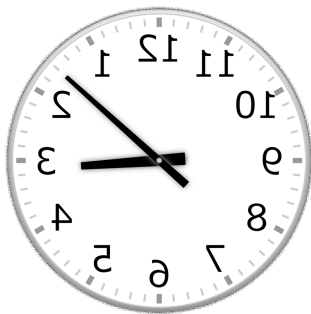
⑥



10時 52分

(22時 52分)

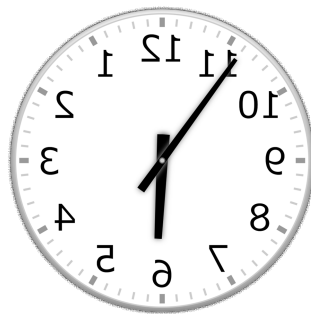
⑦



3時 8分

(15時 8分)

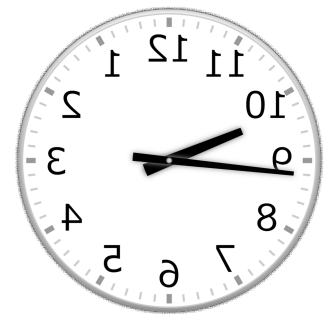
⑧



5時 54分

(17時 54分)

⑨



9時 44分

(21時 44分)