

【鏡時計読み】

反転アナログ時計 1分刻み

名前 _____

No.001

かがみどけい はり さ じこく か


★鏡時計の針が指している時刻を書きましょう

分 秒

正解数

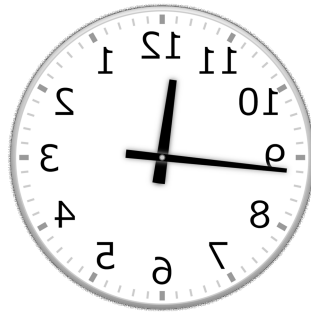
/ 9

①




時 分

②



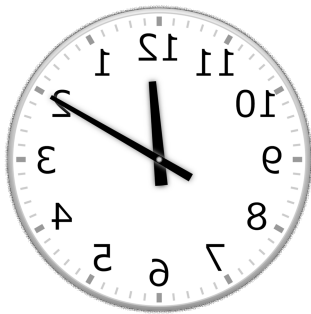
時 分

③



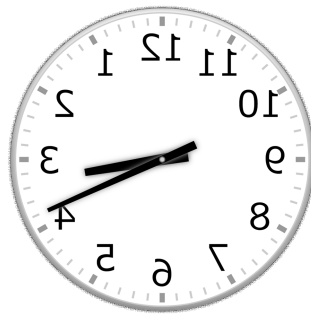
時 分

④



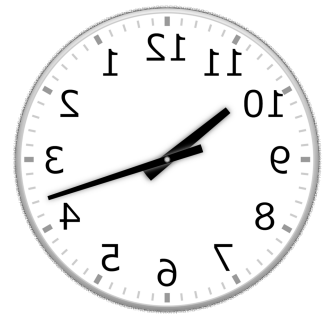
時 分

⑤



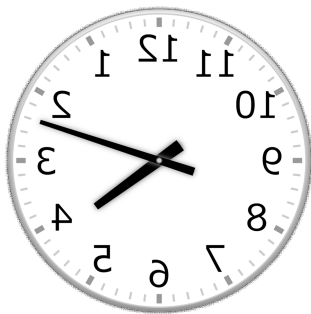
時 分

⑥



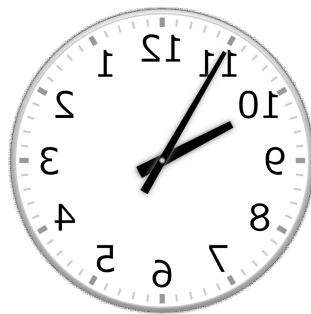
時 分

⑦




時 分

⑧



時 分

⑨



時 分

【鏡時計読み】

反転アナログ時計 1分刻み

No.002

名前 _____

かがみどけい はり さ じこく か


★鏡時計の針が指している時刻を書きましょう

分 秒

正解数

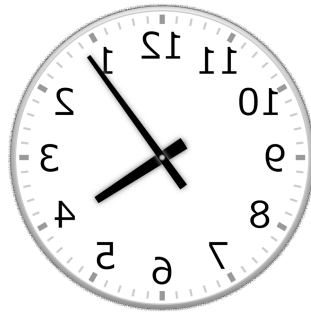
/ 9

①




時 分

②



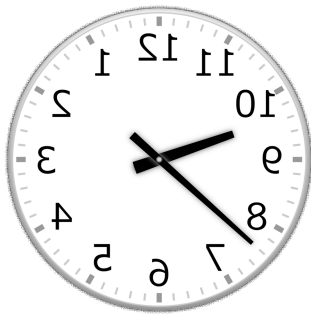
時 分

③



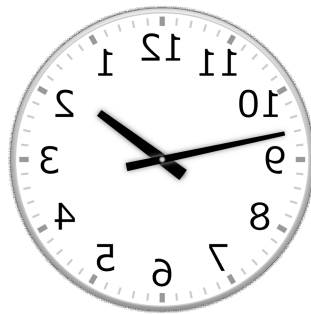
時 分

④



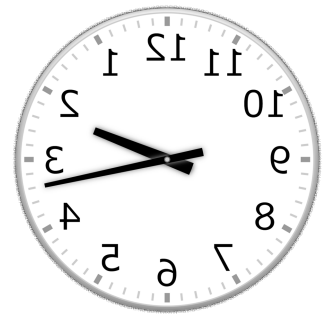
時 分

⑤



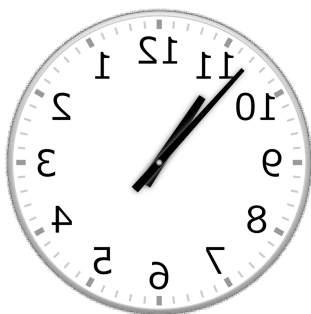
時 分

⑥



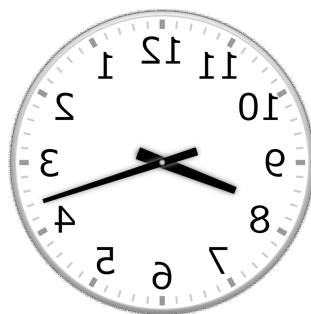
時 分

⑦




時 分

⑧



時 分

⑨



時 分

【鏡時計読み】

反転アナログ時計 1分刻み

名前 _____

No.003

かがみどけい はり さ じこく か

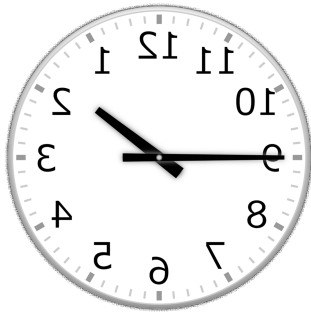
★鏡時計の針が指している時刻を書きましょう

分 秒

正解数


/ 9

①




時 分

②



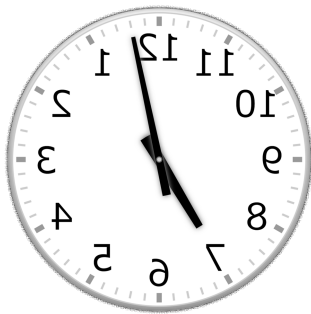
時 分

③



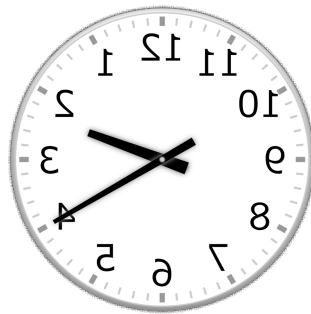
時 分

④



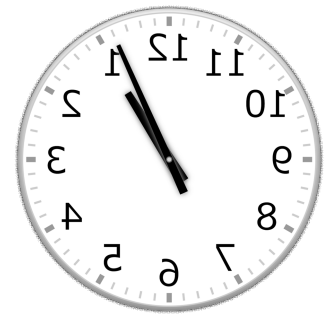
時 分

⑤




時 分

⑥



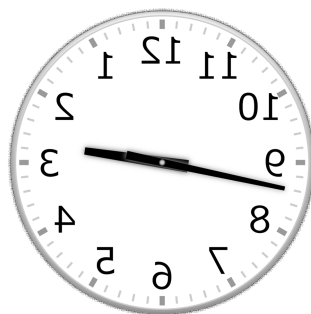
時 分

⑦



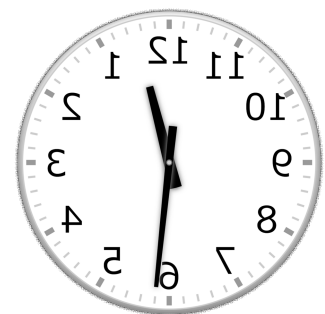
時 分

⑧



時 分

⑨



時 分

【鏡時計読み】

反転アナログ時計 1分刻み

No.004

名前 _____

かがみどけい はり さ じこく か


★鏡時計の針が指している時刻を書きましょう

分 秒

正解数

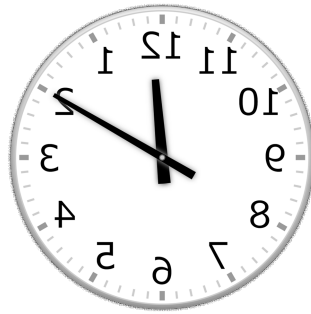
/ 9

①




時 分

②




時 分

③



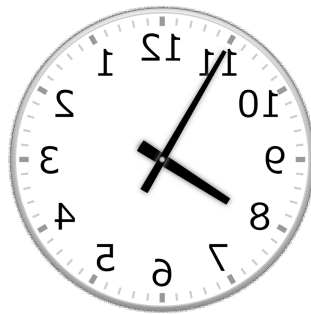
時 分

④




時 分

⑤




時 分

⑥



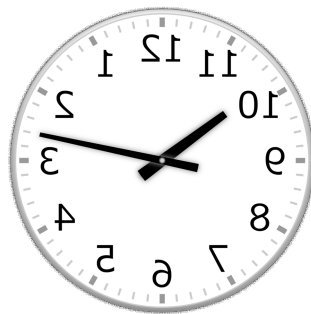
時 分

⑦



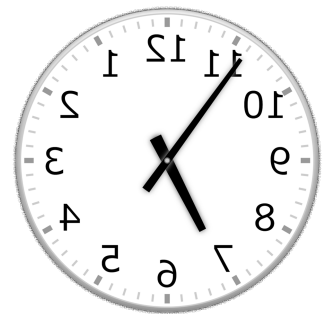
時 分

⑧



時 分

⑨



時 分

【鏡時計読み】

反転アナログ時計 1分刻み

No.005

名前 _____

かがみどけい はり さ じこく か

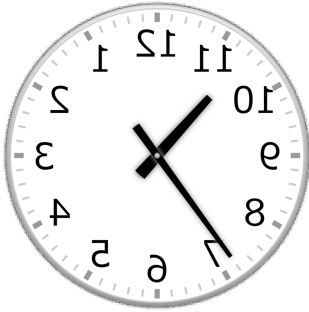
★鏡時計の針が指している時刻を書きましょう

分 秒

正解数

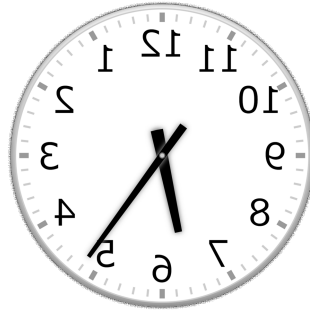
/ 9

①




時 分

②



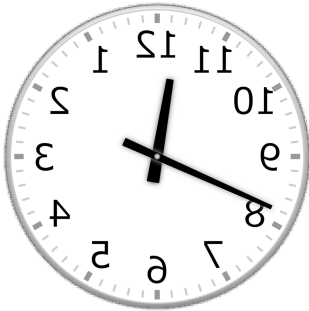
時 分

③




時 分

④



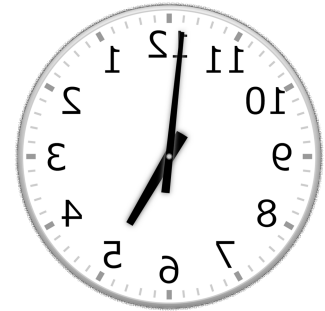
時 分

⑤



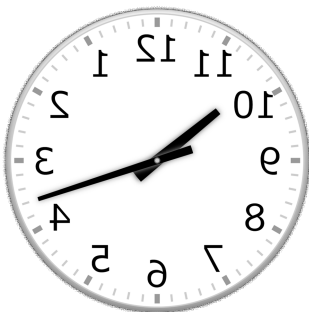
時 分

⑥



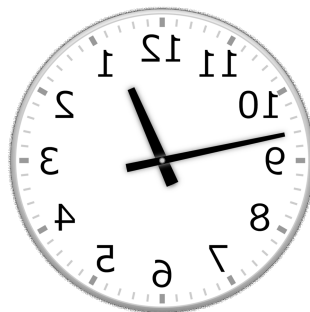
時 分

⑦



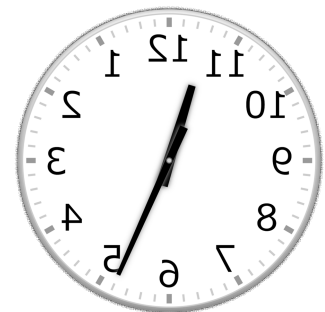
時 分

⑧



時 分

⑨



時 分

【鏡時計読み】

反転アナログ時計 1分刻み

No.006

名前 _____

かがみどけい はり さ じこく か

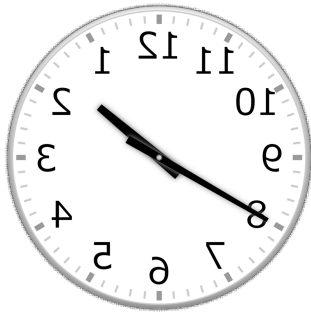
★鏡時計の針が指している時刻を書きましょう

分 秒

正解数

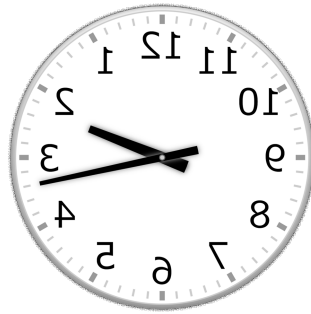
/ 9

①



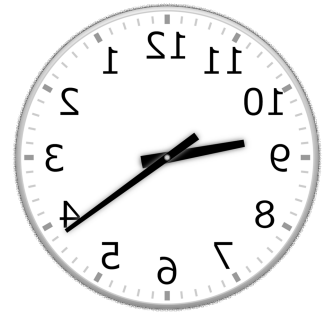
時 分

②




時 分

③



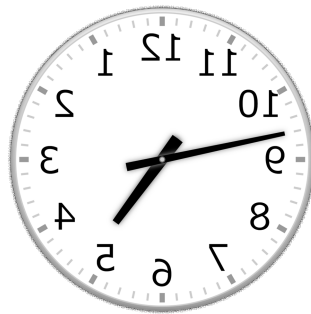
時 分

④



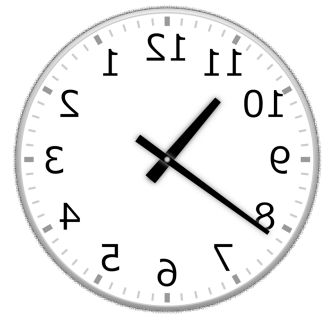
時 分

⑤



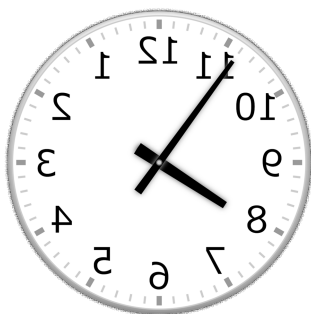
時 分

⑥



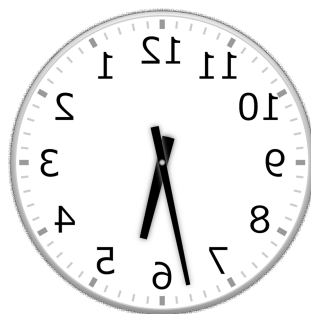
時 分

⑦



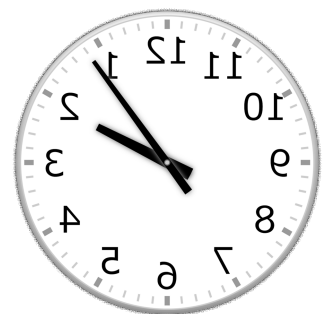
時 分

⑧



時 分

⑨



時 分

【鏡時計読み】

反転アナログ時計 1分刻み

No.007

名前 _____

かがみどけい はり さ じこく か

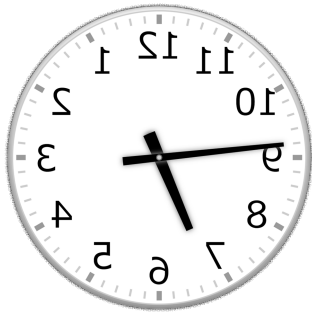
★鏡時計の針が指している時刻を書きましょう

分 秒

正解数

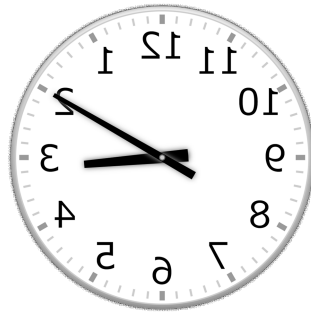
/ 9

①



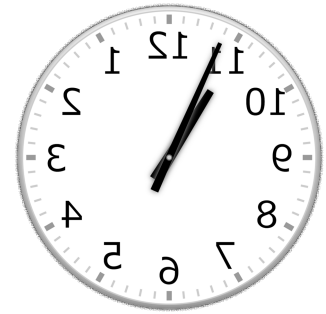
時 分

②



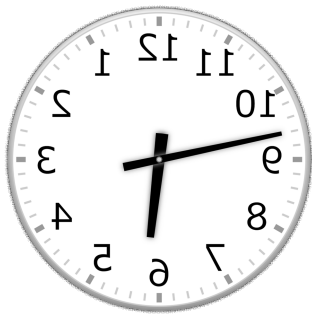
時 分

③



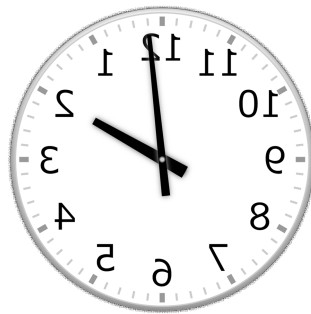
時 分

④




時 分

⑤



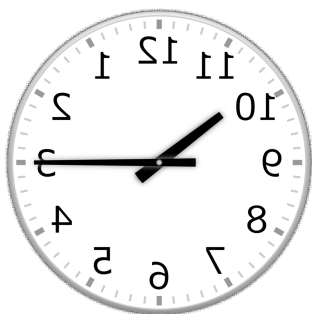
時 分

⑥



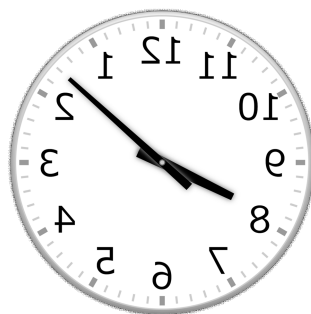
時 分

⑦



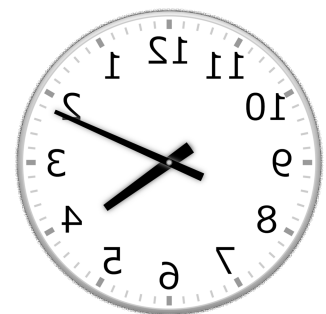
時 分

⑧



時 分

⑨



時 分

【鏡時計読み】

反転アナログ時計 1分刻み

No.008

名前 _____

かがみどけい はり さ じこく か

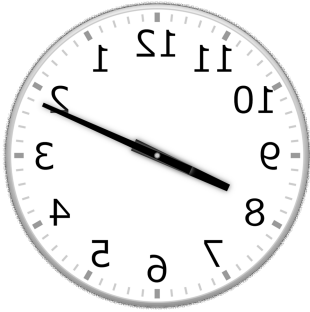
★鏡時計の針が指している時刻を書きましょう

分 秒

正解数


/ 9

①




時 分

②



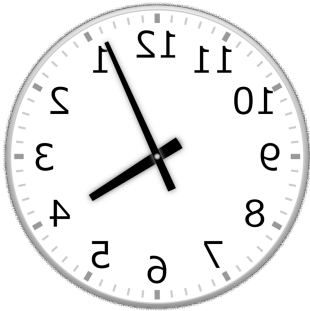
時 分

③



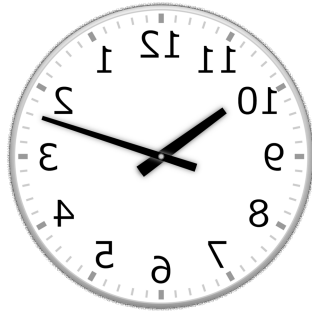
時 分

④




時 分

⑤




時 分

⑥




時 分

⑦




時 分

⑧



時 分

⑨



時 分

【鏡時計読み】

反転アナログ時計 1分刻み

No.009

名前 _____

かがみどけい はり さ じこく か


★鏡時計の針が指している時刻を書きましょう

分 秒

正解数

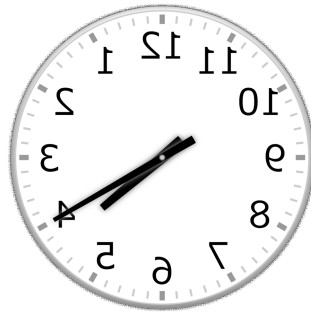
/ 9

①




時 分

②




時 分

③



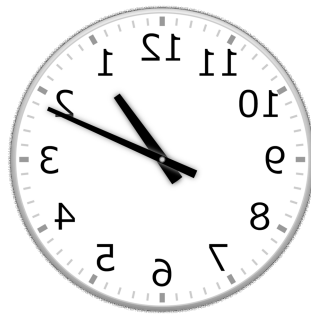
時 分

④




時 分

⑤



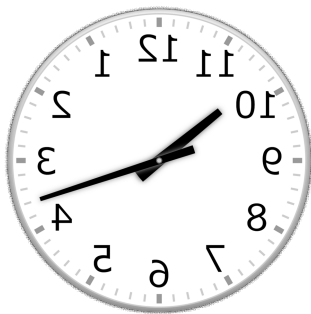
時 分

⑥




時 分

⑦




時 分

⑧



時 分

⑨



時 分

【鏡時計読み】

反転アナログ時計 1分刻み

No.010

名前 _____

かがみどけい はり さ じこく か

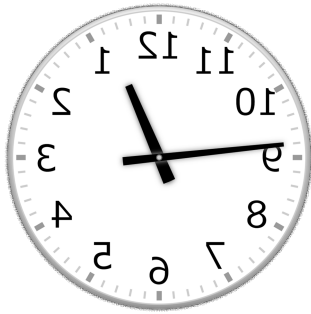
★鏡時計の針が指している時刻を書きましょう

分 秒

正解数

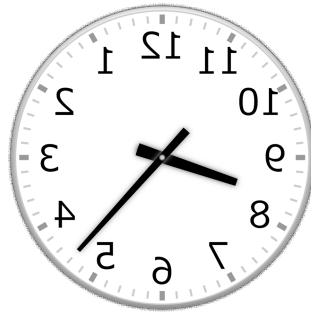
/ 9

①



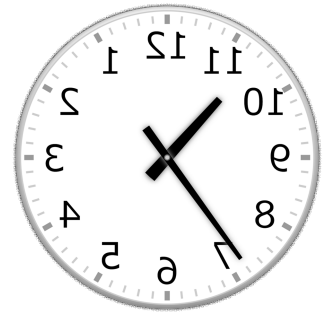
時 分

②



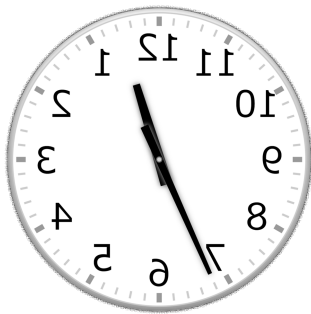
時 分

③



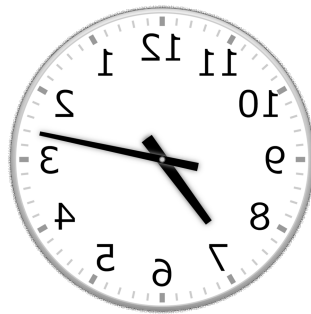
時 分

④



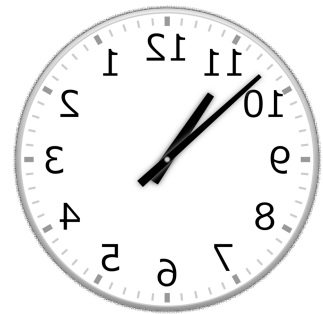
時 分

⑤



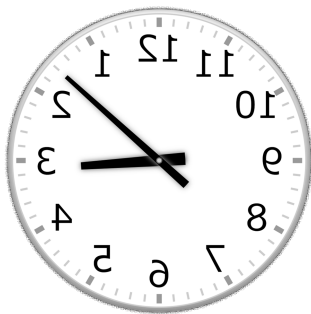
時 分

⑥



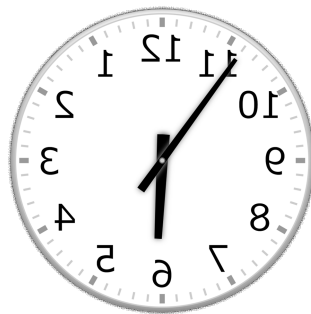
時 分

⑦



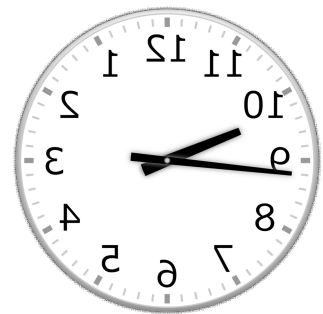
時 分

⑧



時 分

⑨



時 分