

# 【鏡時計読み】

反転アナログ時計 10分刻み

No.010

名前 \_\_\_\_\_

かがみどけい はり さ じこく か

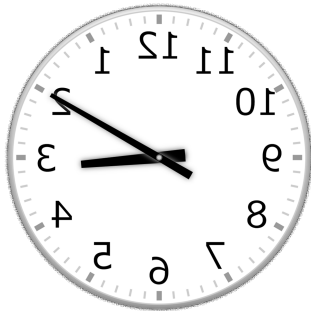
★鏡時計の針が指している時刻を書きましょう

分 秒

正解数

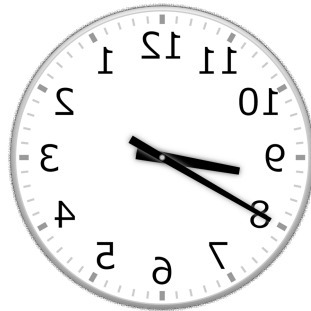
/ 9

①



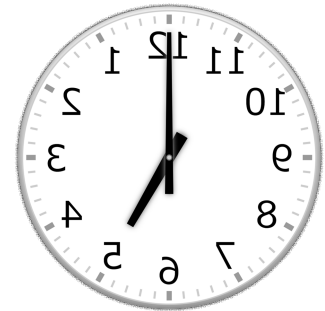
時 分

②



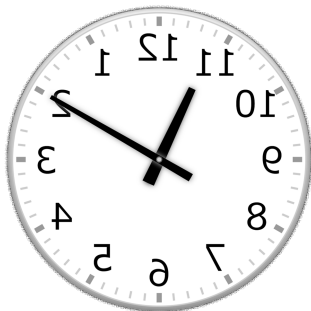
時 分

③



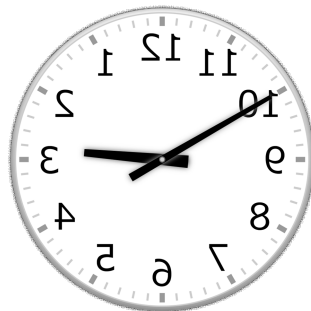
時 分

④




時 分

⑤




時 分

⑥




時 分

⑦




時 分

⑧



時 分

⑨



時 分

# 【鏡時計読み】

反転アナログ時計 10分刻み

名前 \_\_\_\_\_

No.010

かがみどけい はり さ じこく か

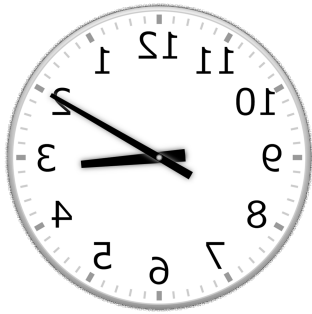
★鏡時計の針が指している時刻を書きましょう

分 秒

正解数

/ 9


①



3時 10分

(15時 10分)

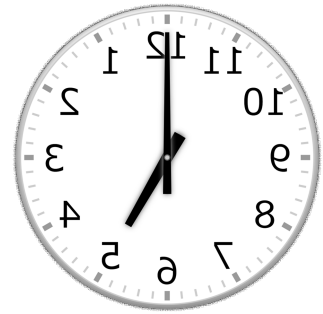
②



8時 40分

(20時 40分)

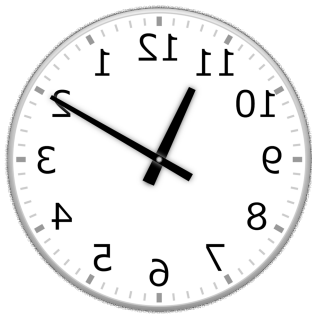
③



5時 0分

(17時 0分)

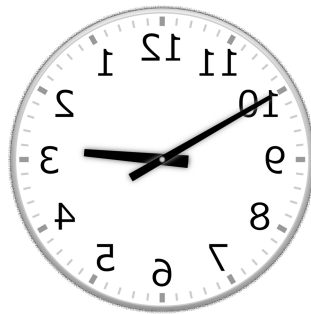
④



11時 10分

(23時 10分)


⑤



2時 50分

(14時 50分)

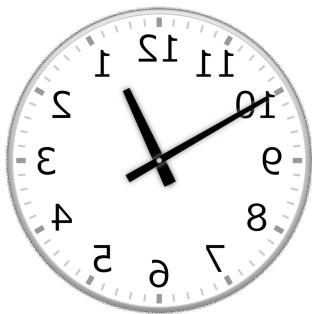
⑥



4時 30分

(16時 30分)


⑦



12時 50分

(0時 50分)


⑧



6時 50分

(18時 50分)

⑨



10時 30分

(22時 30分)