

# 【鏡時計読み】

反転アナログ時計 10分刻み

名前 \_\_\_\_\_

No.008

かがみどけい はり さ じこく か


★鏡時計の針が指している時刻を書きましょう

分 秒

正解数

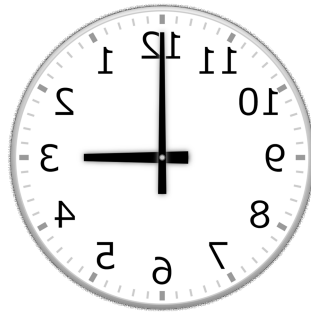
/ 9

①



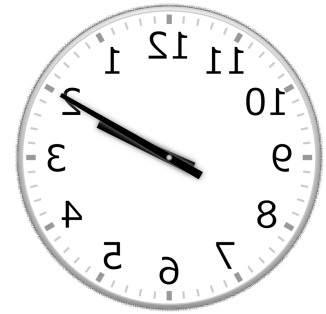
時 分

②




時 分

③



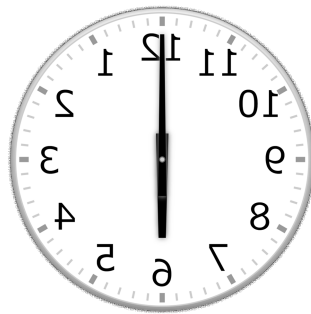
時 分

④




時 分

⑤



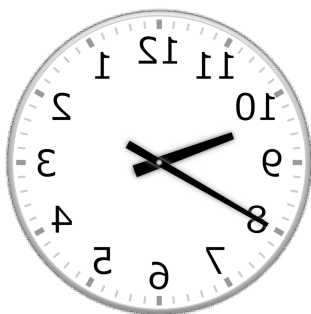
時 分

⑥



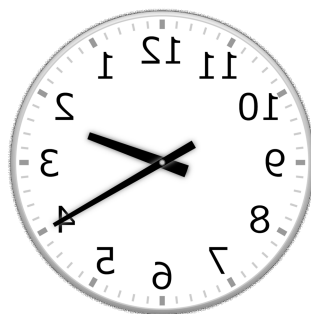
時 分

⑦




時 分

⑧



時 分

⑨



時 分

# 【鏡時計読み】

反転アナログ時計 10分刻み

名前 \_\_\_\_\_

No.008

かがみどけい はり さ じこく か


★鏡時計の針が指している時刻を書きましょう

分 秒

正解数

/ 9

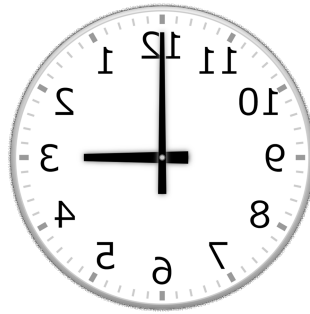
①



5時 30分

(17時 30分)

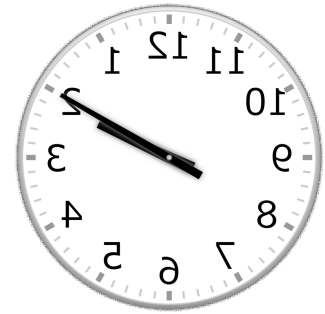
②



3時 0分

(15時 0分)


③



2時 10分

(14時 10分)

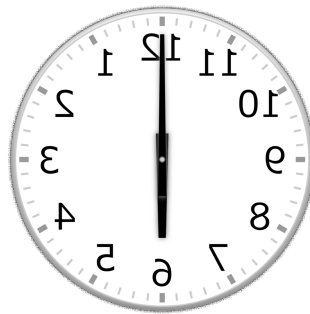
④



6時 50分

(18時 50分)


⑤



6時 0分

(18時 0分)

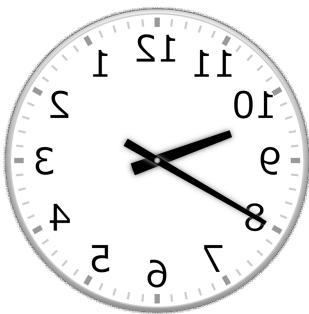
⑥



5時 20分

(17時 20分)

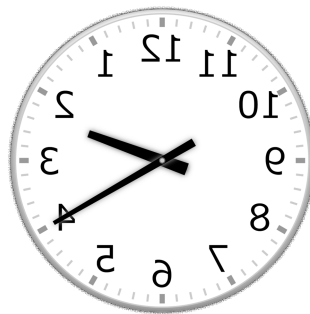
⑦



9時 40分

(21時 40分)


⑧



2時 20分

(14時 20分)

⑨



5時 10分

(17時 10分)