

【鏡時計読み】

反転アナログ時計 10分刻み

No.007

名前 _____

かがみどけい はり さ じこく か

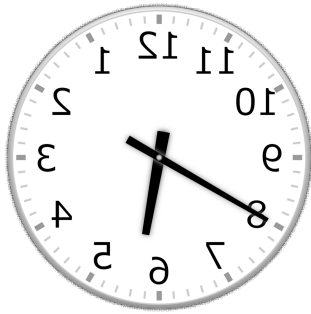
★鏡時計の針が指している時刻を書きましょう

分 秒

正解数


/ 9

①



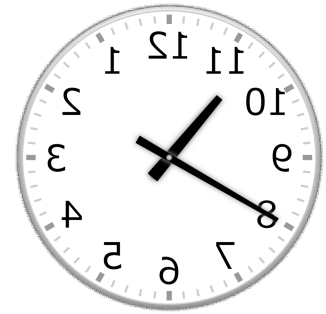
時 分

②



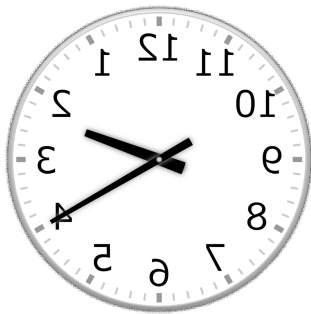
時 分

③




時 分

④



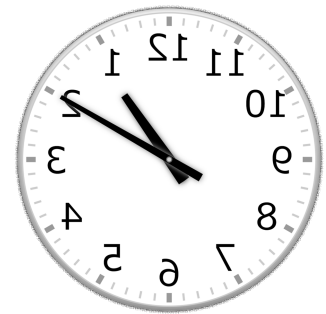
時 分

⑤




時 分

⑥




時 分

⑦



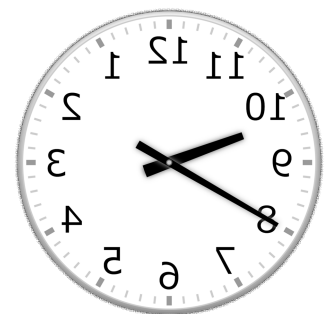
時 分

⑧



時 分

⑨



時 分

【鏡時計読み】

反転アナログ時計 10分刻み

No.007

名前 _____

かがみどけい はり さ じこく か

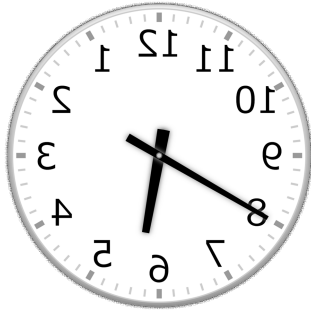
★鏡時計の針が指している時刻を書きましょう

分 秒

正解数

/ 9


①



5時 40分

(17時 40分)

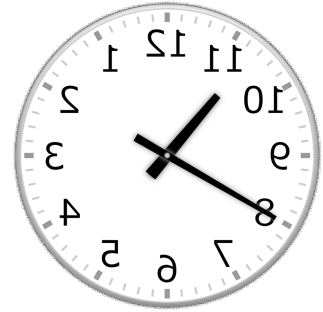
②



7時 10分

(19時 10分)

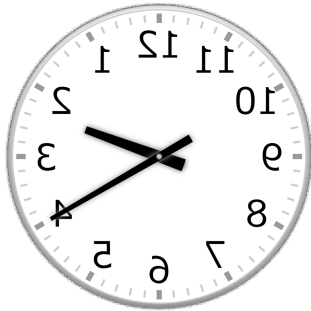
③



10時 40分

(22時 40分)

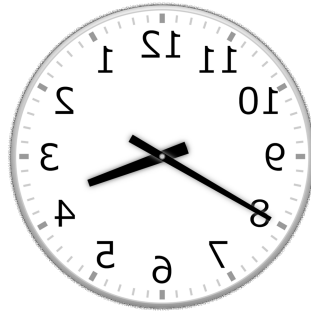
④



2時 20分

(14時 20分)

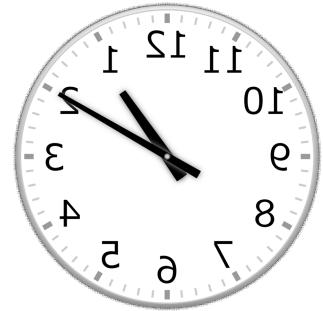
⑤



3時 40分

(15時 40分)


⑥



1時 10分

(13時 10分)


⑦



12時 50分

(0時 50分)

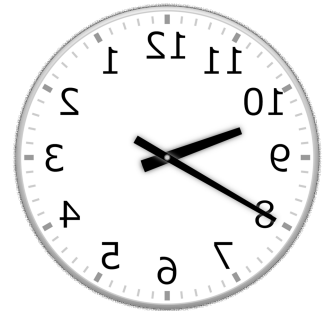
⑧



1時 30分

(13時 30分)

⑨



9時 40分

(21時 40分)