

【鏡時計読み】

反転アナログ時計 10分刻み

No.006

名前 _____

かがみどけい はり さ じこく か


★鏡時計の針が指している時刻を書きましょう

分 秒

正解数


/ 9

①



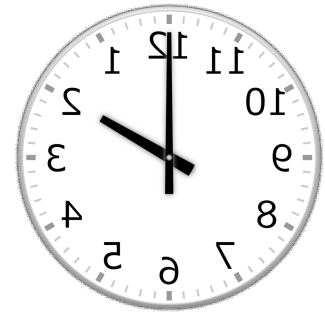
時 分

②



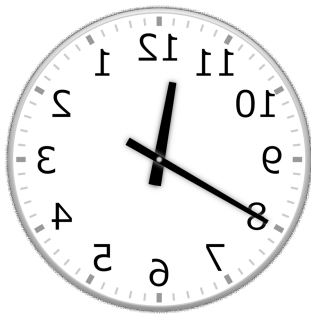
時 分

③



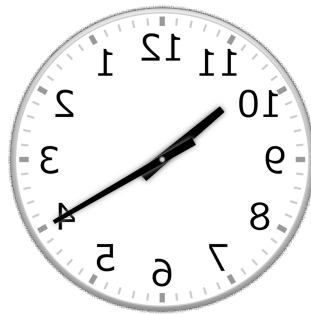
時 分

④



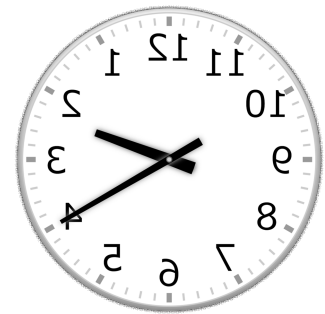
時 分

⑤



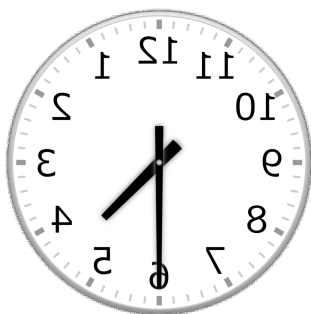
時 分

⑥



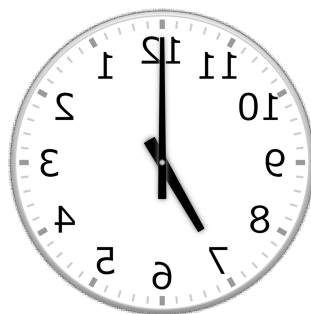
時 分

⑦




時 分

⑧



時 分

⑨



時 分

【鏡時計読み】

反転アナログ時計 10分刻み

名前 _____

No.006

かがみどけい はり さ じこく か


★鏡時計の針が指している時刻を書きましょう

分 秒

正解数

/9


①



8時 50分

(20時 50分)


②



6時 40分

(18時 40分)

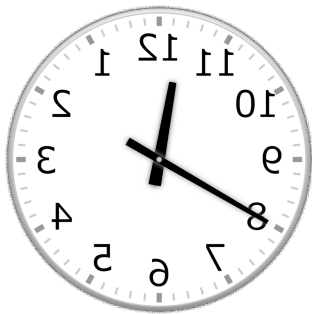
③



2時 0分

(14時 0分)

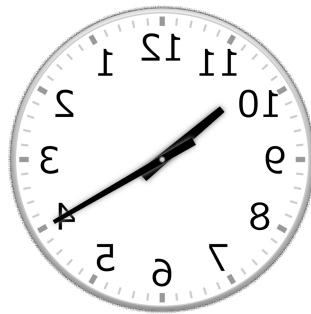
④



11時 40分

(23時 40分)

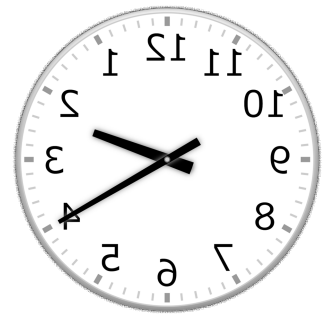
⑤



10時 20分

(22時 20分)

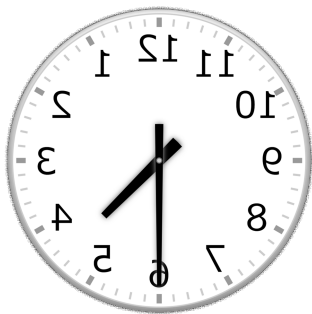
⑥



2時 20分

(14時 20分)

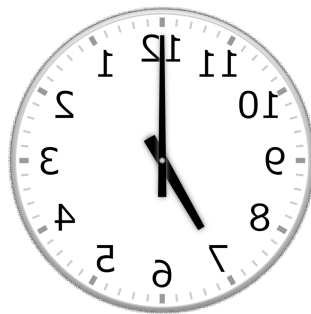
⑦



4時 30分

(16時 30分)

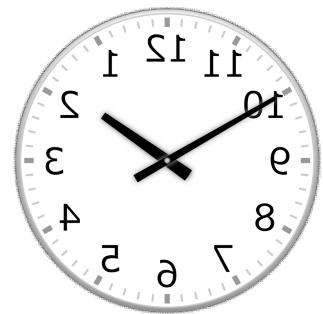
⑧



7時 0分

(19時 0分)

⑨



1時 50分

(13時 50分)