

# 【鏡時計読み】

反転アナログ時計 10分刻み

名前 \_\_\_\_\_

No.005

かがみどけい はり さ じこく か


★鏡時計の針が指している時刻を書きましょう

分 秒

正解数

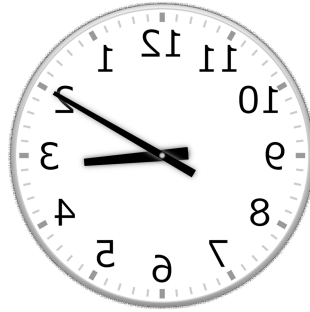
/ 9

①



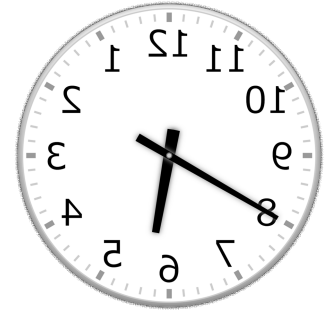
時 分

②




時 分

③



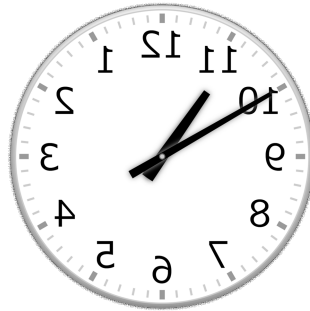
時 分

④



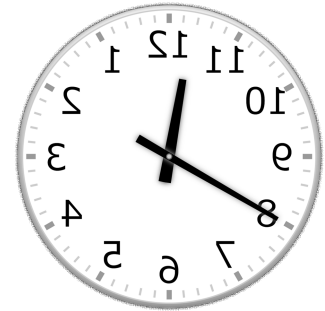
時 分

⑤




時 分

⑥



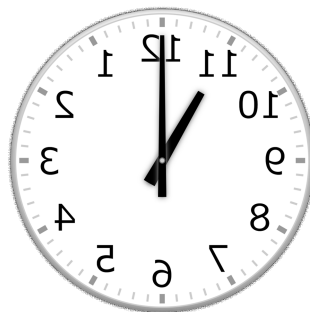
時 分

⑦



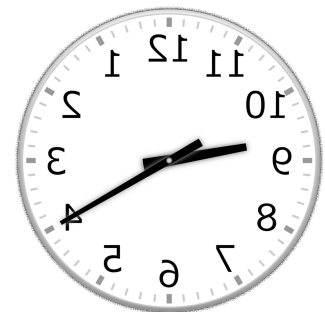
時 分

⑧



時 分

⑨



時 分

# 【鏡時計読み】

反転アナログ時計 10分刻み

名前 \_\_\_\_\_

No.005

かがみどけい はり さ じこく か


★鏡時計の針が指している時刻を書きましょう

分 秒

正解数

/9

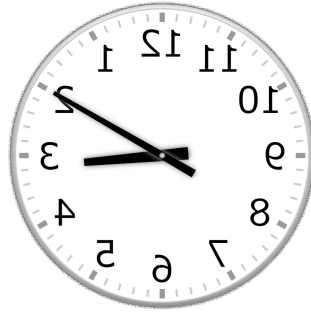
①



9時 0分

(21時 0分)

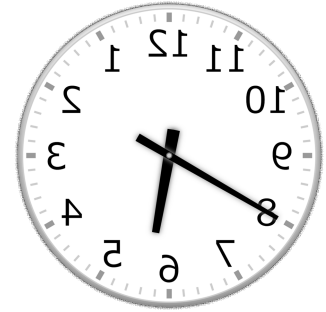
②



3時 10分

(15時 10分)

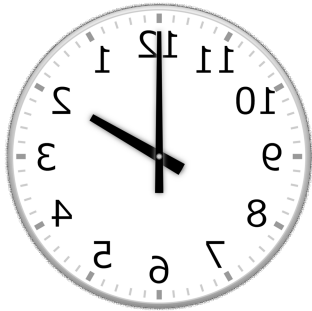
③



5時 40分

(17時 40分)


④



2時 0分

(14時 0分)

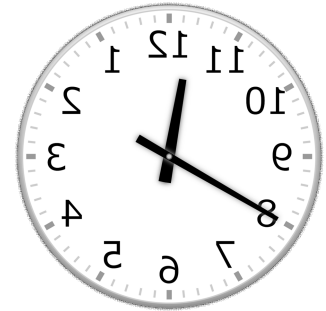
⑤



10時 50分

(22時 50分)


⑥



11時 40分

(23時 40分)

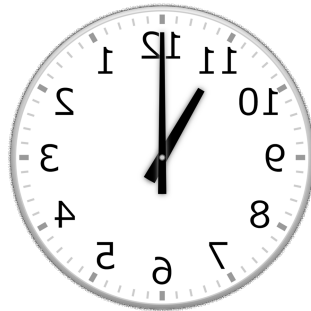
⑦



6時 20分

(18時 20分)

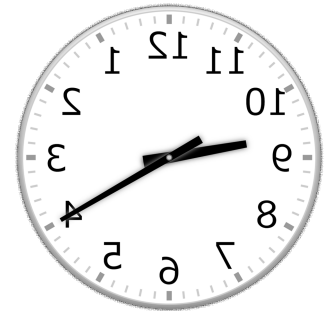
⑧



11時 0分

(23時 0分)

⑨



9時 20分

(21時 20分)