

【鏡時計読み】

反転アナログ時計 10分刻み

名前 _____

No.004

かがみどけい はり さ じこく か


★鏡時計の針が指している時刻を書きましょう

分 秒

正解数

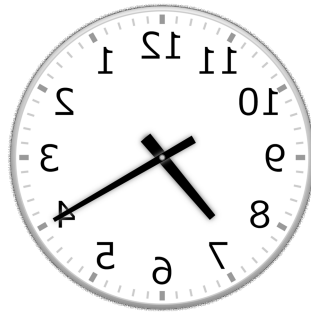
/9

①



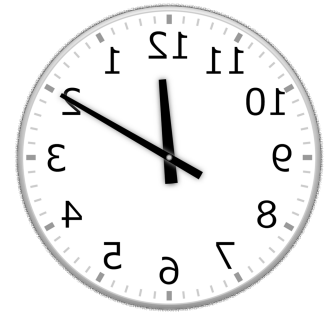
時 分

②




時 分

③



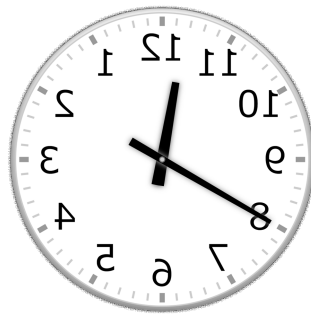
時 分

④




時 分

⑤



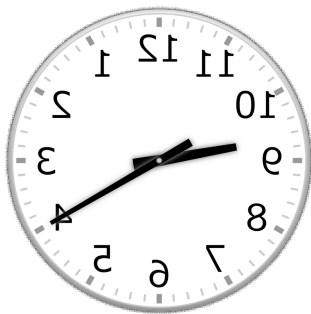
時 分

⑥



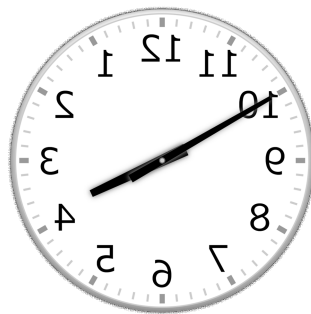
時 分

⑦



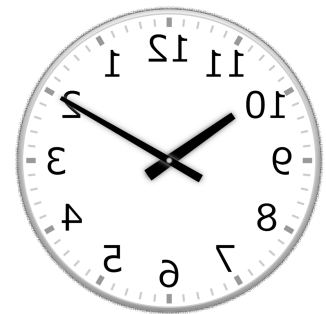
時 分

⑧



時 分

⑨



時 分

【鏡時計読み】

反転アナログ時計 10分刻み

名前 _____

No.004

かがみどけい はり さ じこく か


★鏡時計の針が指している時刻を書きましょう

分 秒

正解数

/ 9

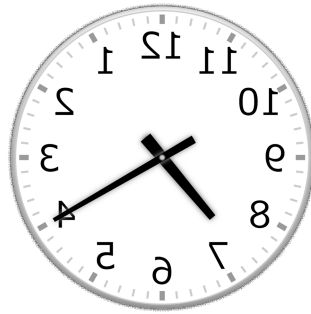
①



4時 50分

(16時 50分)

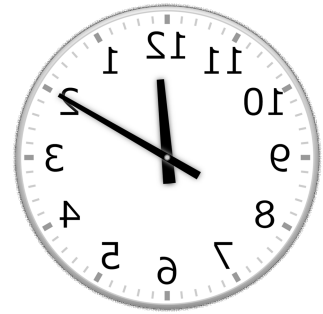
②



7時 20分

(19時 20分)


③



12時 10分

(0時 10分)

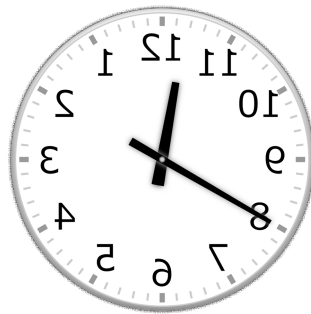
④



8時 30分

(20時 30分)


⑤



11時 40分

(23時 40分)

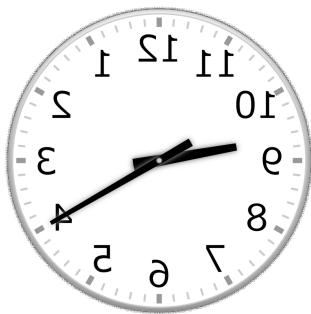
⑥



6時 50分

(18時 50分)

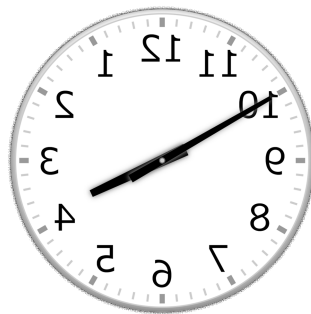
⑦



9時 20分

(21時 20分)


⑧



3時 50分

(15時 50分)

⑨



10時 10分

(22時 10分)