

# 【鏡時計読み】

反転アナログ時計 10分刻み

名前 \_\_\_\_\_

No.003

かがみどけい はり さ じこく か


★鏡時計の針が指している時刻を書きましょう

分 秒

正解数


/ 9

①



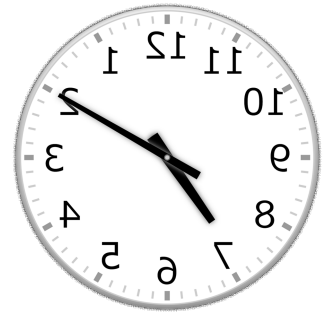
時 分

②




時 分

③




時 分

④




時 分

⑤




時 分

⑥



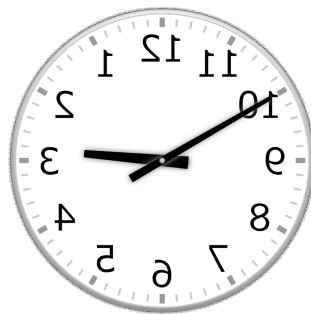
時 分

⑦



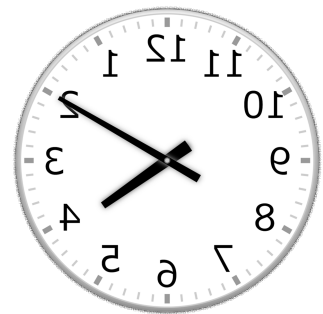
時 分

⑧



時 分

⑨



時 分

# 【鏡時計読み】

反転アナログ時計 10分刻み

名前 \_\_\_\_\_

No.003

かがみどけい はり さ じこく か

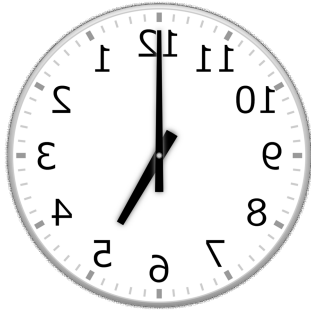
★鏡時計の針が指している時刻を書きましょう

分 秒

正解数

/ 9

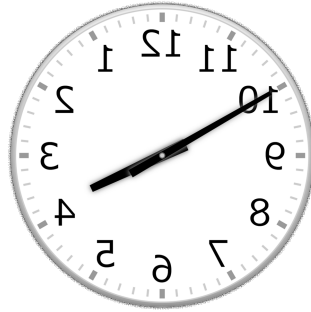
①



5時 0分

(17時 0分)


②



3時 50分

(15時 50分)


③



7時 10分

(19時 10分)

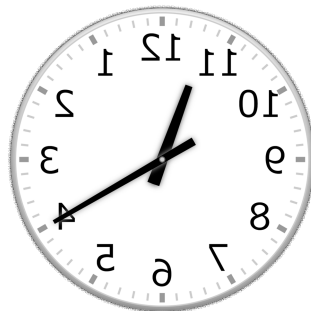
④



9時 0分

(21時 0分)


⑤



11時 20分

(23時 20分)


⑥



9時 30分

(21時 30分)

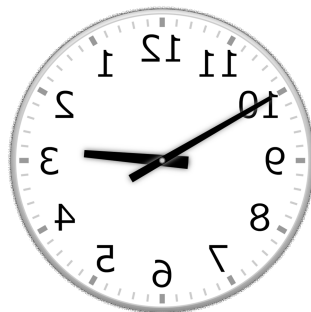
⑦



6時 40分

(18時 40分)

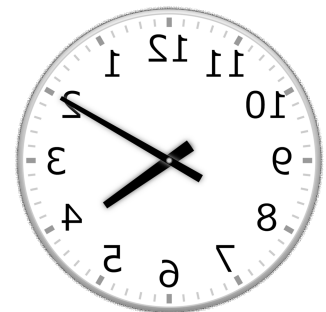
⑧



2時 50分

(14時 50分)

⑨



4時 10分

(16時 10分)