

【鏡時計読み】

反転アナログ時計 10分刻み

名前 _____

No.002

かがみどけい はり さ じこく か


★鏡時計の針が指している時刻を書きましょう

分 秒

正解数


/ 9

①



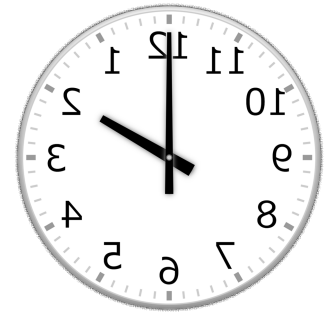
時 分

②




時 分

③



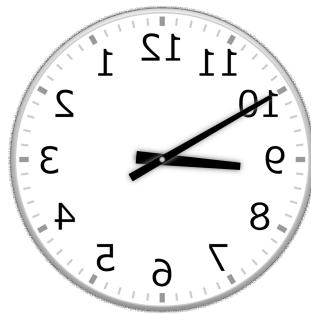
時 分

④




時 分

⑤




時 分

⑥



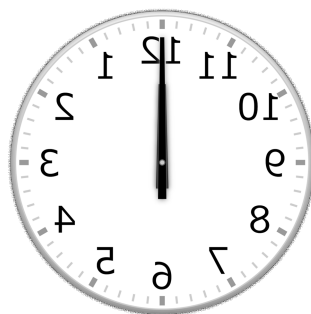
時 分

⑦



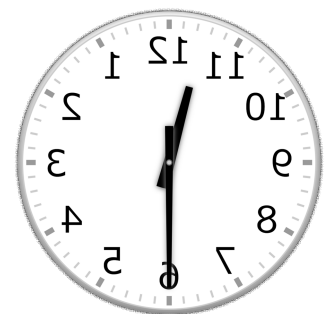
時 分

⑧



時 分

⑨



時 分

【鏡時計読み】

反転アナログ時計 10分刻み

名前 _____

No.002

かがみどけい はり さ じこく か


★鏡時計の針が指している時刻を書きましょう

分 秒

正解数

/ 9


①



6時 20分

(18時 20分)


②



1時 10分

(13時 10分)


③



2時 0分

(14時 0分)

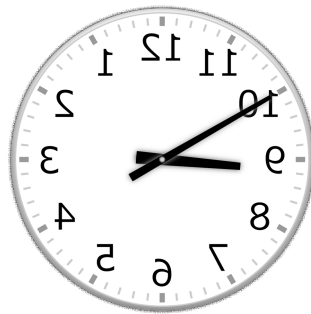
④



5時 20分

(17時 20分)


⑤



8時 50分

(20時 50分)

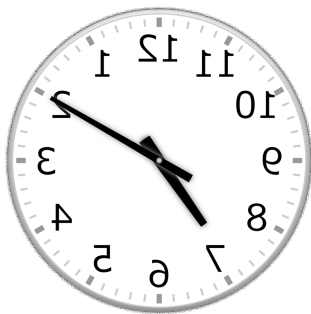
⑥



4時 30分

(16時 30分)

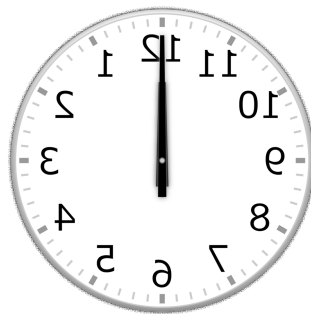
⑦



7時 10分

(19時 10分)

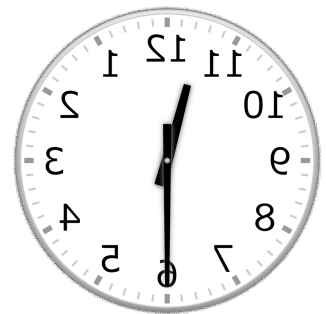
⑧



12時 0分

(0時 0分)

⑨



11時 30分

(23時 30分)