

【鏡時計読み】

反転アナログ時計 10分刻み

名前 _____

No.001

かがみどけい はり さ じこく か


★鏡時計の針が指している時刻を書きましょう

分 秒

正解数

/ 9

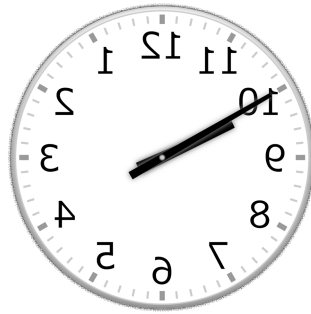
①



12時 40分

(0時 40分)

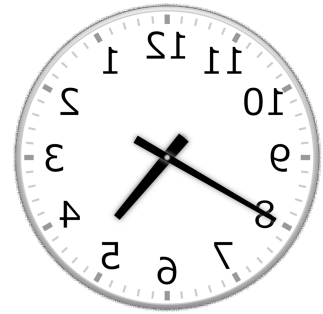
②



9時 50分

(21時 50分)


③



4時 40分

(16時 40分)

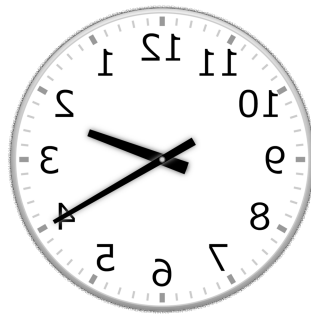
④



1時 30分

(13時 30分)


⑤



2時 20分

(14時 20分)


⑥



3時 30分

(15時 30分)

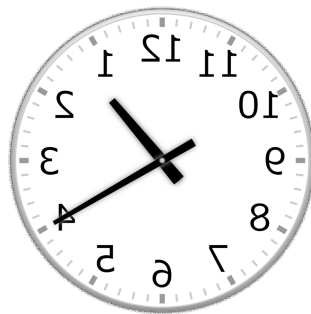
⑦



5時 40分

(17時 40分)


⑧



1時 20分

(13時 20分)

⑨



7時 30分

(19時 30分)

【鏡時計読み】

反転アナログ時計 10分刻み

名前 _____

No.002

かがみどけい はり さ じこく か


★鏡時計の針が指している時刻を書きましょう

分 秒

正解数

/ 9


①



6時 20分

(18時 20分)


②



1時 10分

(13時 10分)

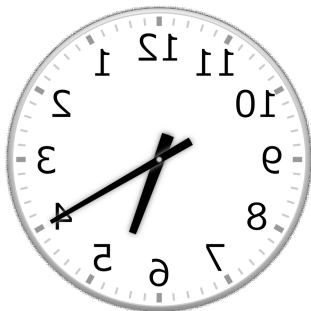
③



2時 0分

(14時 0分)

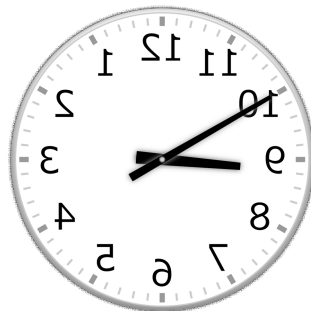
④



5時 20分

(17時 20分)


⑤



8時 50分

(20時 50分)


⑥



4時 30分

(16時 30分)

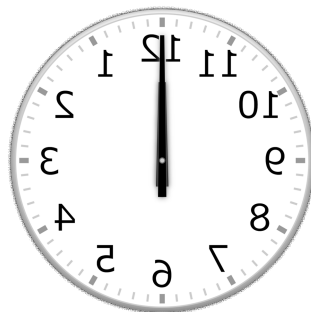
⑦



7時 10分

(19時 10分)

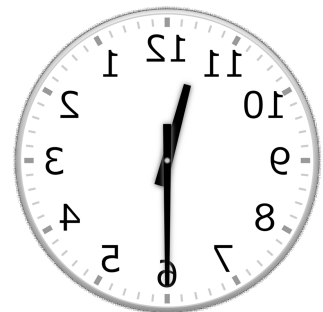
⑧



12時 0分

(0時 0分)

⑨



11時 30分

(23時 30分)

【鏡時計読み】

反転アナログ時計 10分刻み

名前 _____

No.003

かがみどけい はり さ じこく か

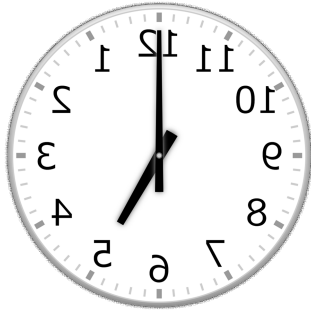
★鏡時計の針が指している時刻を書きましょう

分 秒

正解数

/ 9

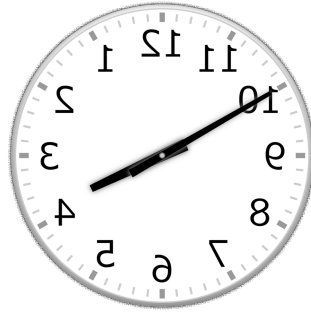
①



5時 0分

(17時 0分)

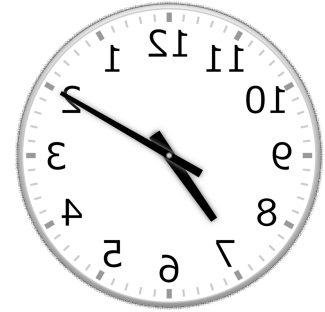
②



3時 50分

(15時 50分)


③



7時 10分

(19時 10分)

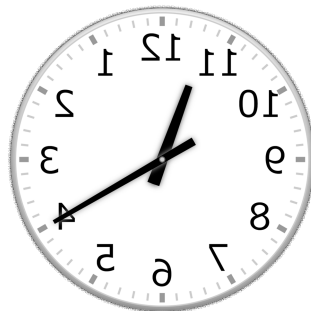
④



9時 0分

(21時 0分)


⑤



11時 20分

(23時 20分)


⑥



9時 30分

(21時 30分)

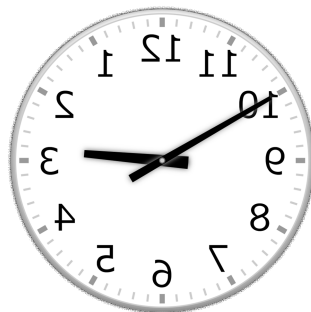
⑦



6時 40分

(18時 40分)

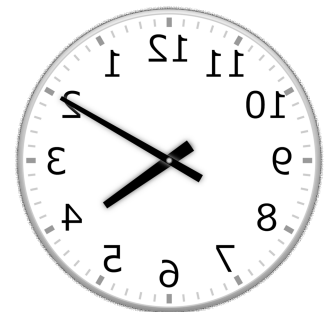
⑧



2時 50分

(14時 50分)

⑨



4時 10分

(16時 10分)

【鏡時計読み】

反転アナログ時計 10分刻み

名前 _____

No.004

かがみどけい はり さ じこく か


★鏡時計の針が指している時刻を書きましょう

分 秒

正解数

/ 9

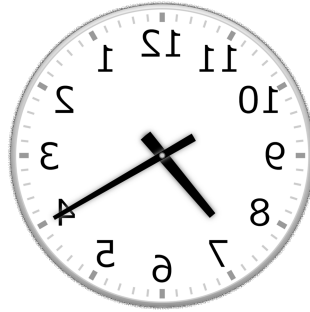
①



4時 50分

(16時 50分)

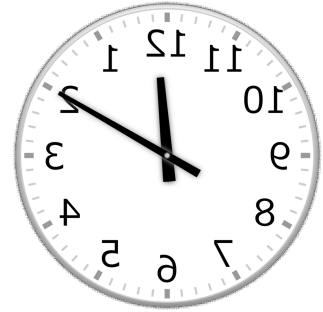
②



7時 20分

(19時 20分)


③



12時 10分

(0時 10分)

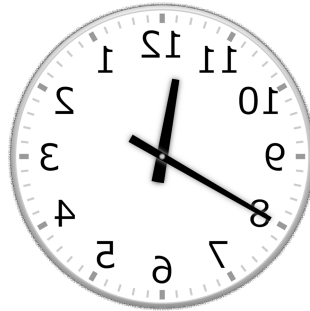
④



8時 30分

(20時 30分)


⑤



11時 40分

(23時 40分)

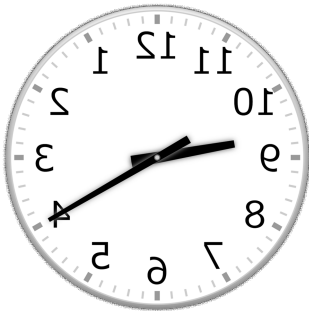
⑥



6時 50分

(18時 50分)

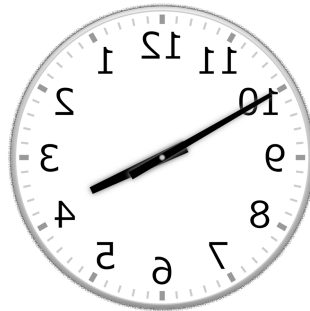
⑦



9時 20分

(21時 20分)

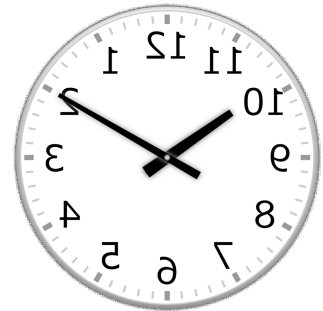
⑧



3時 50分

(15時 50分)

⑨



10時 10分

(22時 10分)

【鏡時計読み】

反転アナログ時計 10分刻み

名前 _____

No.005

かがみどけい はり さ じこく か


★鏡時計の針が指している時刻を書きましょう

分 秒

正解数

/9

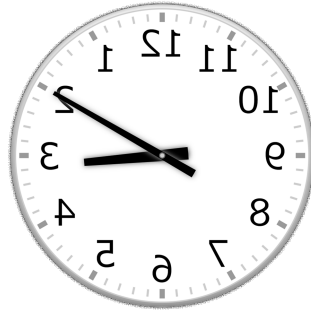
①



9時 0分

(21時 0分)

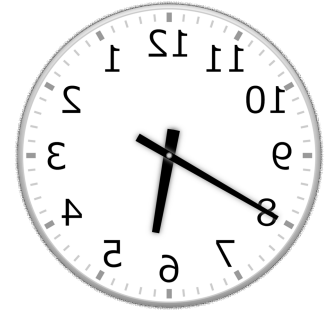
②



3時 10分

(15時 10分)


③



5時 40分

(17時 40分)


④



2時 0分

(14時 0分)

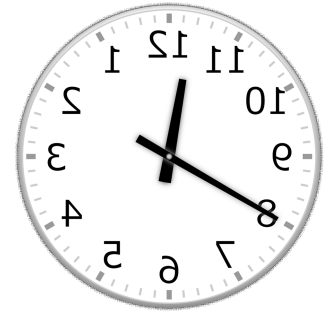
⑤



10時 50分

(22時 50分)


⑥



11時 40分

(23時 40分)

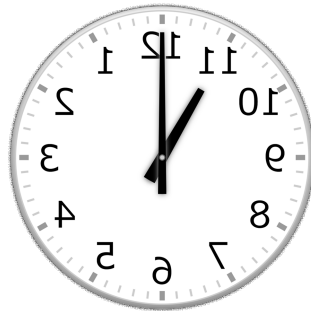
⑦



6時 20分

(18時 20分)

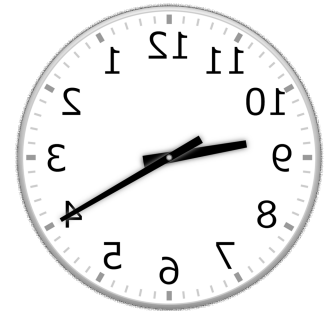
⑧



11時 0分

(23時 0分)

⑨



9時 20分

(21時 20分)

【鏡時計読み】

反転アナログ時計 10分刻み

名前 _____

No.006

かがみどけい はり さ じこく か


★鏡時計の針が指している時刻を書きましょう

分 秒

正解数

/9


①



8時 50分

(20時 50分)


②



6時 40分

(18時 40分)

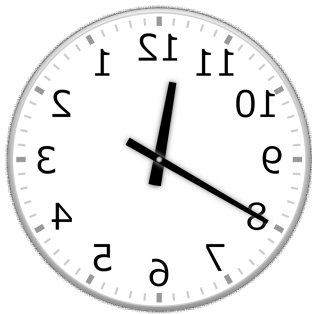
③



2時 0分

(14時 0分)

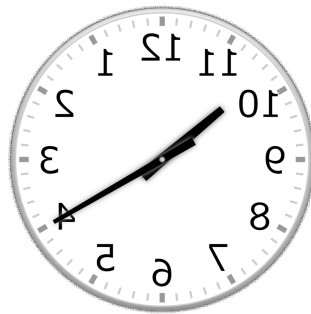
④



11時 40分

(23時 40分)

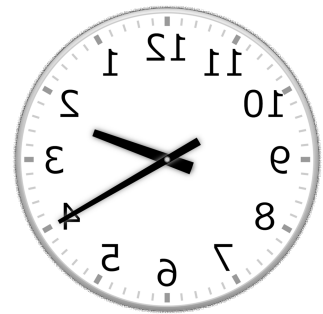
⑤



10時 20分

(22時 20分)

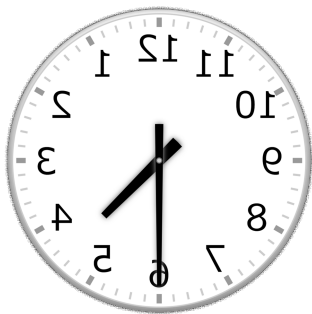
⑥



2時 20分

(14時 20分)

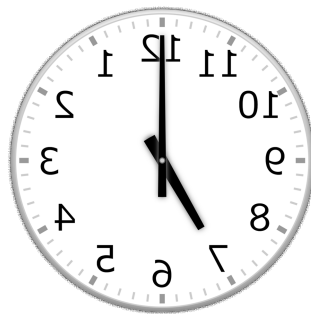
⑦



4時 30分

(16時 30分)

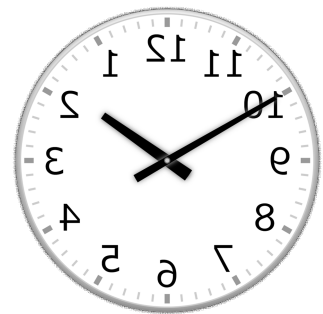
⑧



7時 0分

(19時 0分)

⑨



1時 50分

(13時 50分)

【鏡時計読み】

反転アナログ時計 10分刻み

No.007

名前 _____

かがみどけい はり さ じこく か

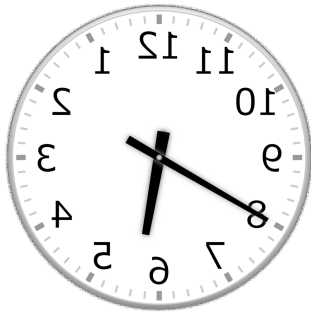
★鏡時計の針が指している時刻を書きましょう

分 秒

正解数

/ 9


①



5時 40分

(17時 40分)

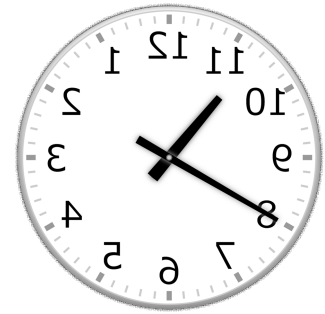
②



7時 10分

(19時 10分)

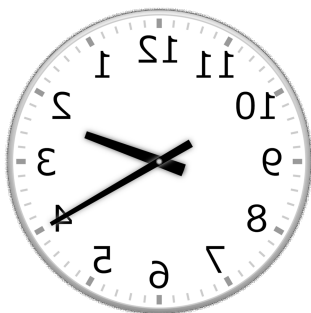
③



10時 40分

(22時 40分)

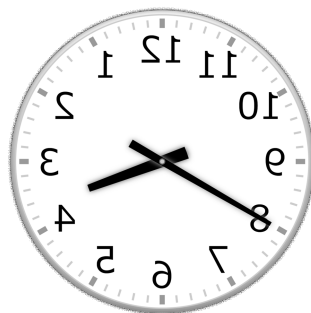
④



2時 20分

(14時 20分)

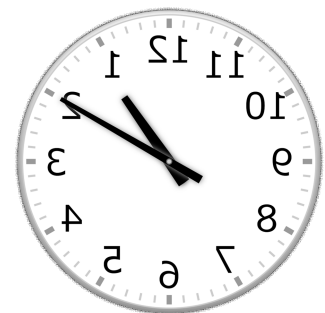
⑤



3時 40分

(15時 40分)


⑥



1時 10分

(13時 10分)


⑦



12時 50分

(0時 50分)

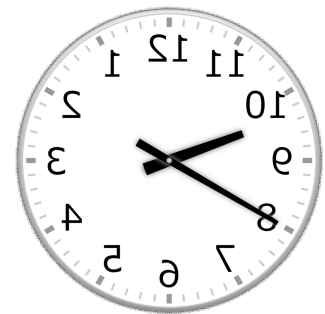
⑧



1時 30分

(13時 30分)

⑨



9時 40分

(21時 40分)

【鏡時計読み】

反転アナログ時計 10分刻み

名前 _____

No.008

かがみどけい はり さ じこく か


★鏡時計の針が指している時刻を書きましょう

分 秒

正解数

/9


①



5時 30分

(17時 30分)

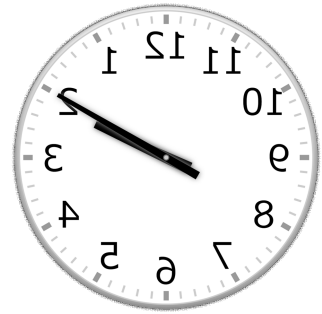
②



3時 0分

(15時 0分)


③



2時 10分

(14時 10分)

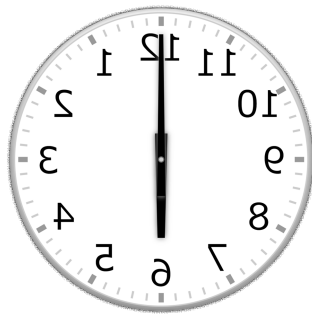
④



6時 50分

(18時 50分)


⑤



6時 0分

(18時 0分)

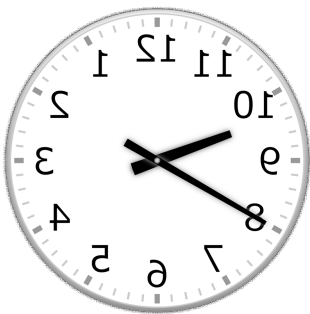
⑥



5時 20分

(17時 20分)

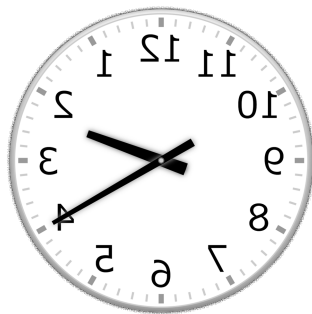
⑦



9時 40分

(21時 40分)


⑧



2時 20分

(14時 20分)

⑨



5時 10分

(17時 10分)

【鏡時計読み】

反転アナログ時計 10分刻み

No.009

名前 _____

かがみどけい はり さ じこく か


★鏡時計の針が指している時刻を書きましょう

分 秒

正解数

/ 9

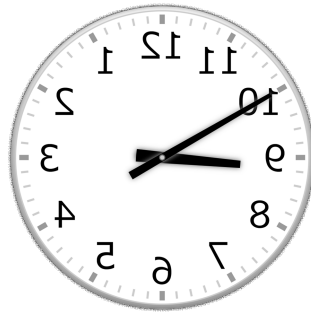
①



5時 20分

(17時 20分)

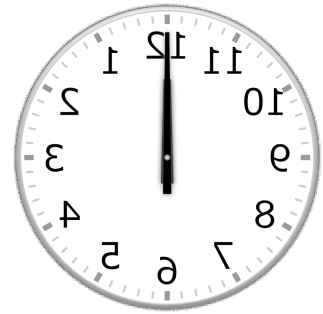
②



8時 50分

(20時 50分)


③



12時 0分

(0時 0分)


④



9時 30分

(21時 30分)

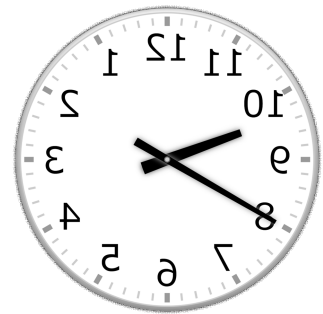
⑤



1時 50分

(13時 50分)

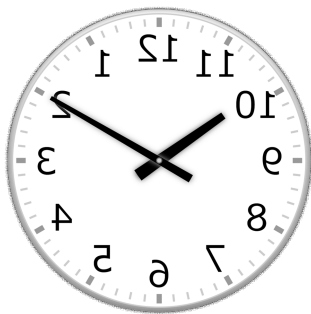
⑥



9時 40分

(21時 40分)

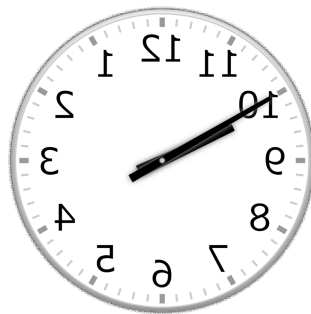
⑦



10時 10分

(22時 10分)

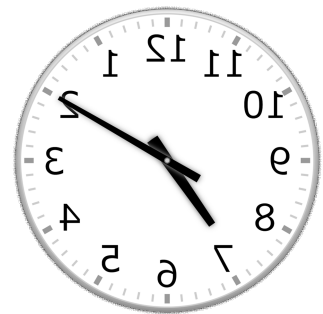
⑧



9時 50分

(21時 50分)

⑨



7時 10分

(19時 10分)

【鏡時計読み】

反転アナログ時計 10分刻み

名前 _____

No.010

かがみどけい はり さ じこく か

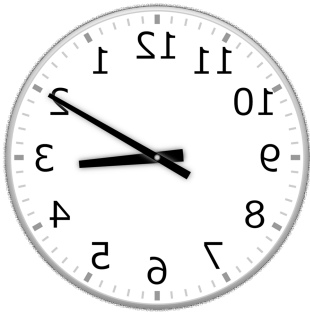
★鏡時計の針が指している時刻を書きましょう

分 秒

正解数

/ 9


①



3時 10分

(15時 10分)

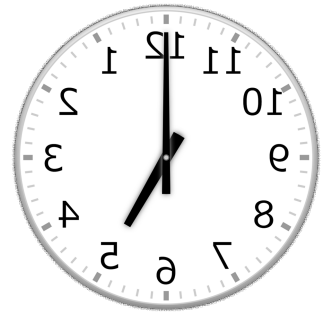
②



8時 40分

(20時 40分)


③



5時 0分

(17時 0分)


④



11時 10分

(23時 10分)


⑤



2時 50分

(14時 50分)


⑥



4時 30分

(16時 30分)


⑦



12時 50分

(0時 50分)


⑧



6時 50分

(18時 50分)

⑨



10時 30分

(22時 30分)