

【アナログ時計読み】

5分刻み

No.010

名前 _____

とけい はり さ じこく か


★時計の針が指している時刻を書きましょう

分 秒

正解数


/ 9

①




時 分

②




時 分

③




時 分

④




時 分

⑤




時 分

⑥




時 分

⑦




時 分

⑧



時 分

⑨



時 分

【アナログ時計読み】

5分刻み

No.010

名前 _____

とけい はり さ じこく か


★時計の針が指している時刻を書きましょう

分 秒

正解数

/ 9


①



10時 0分

(22時 0分)


②



7時 25分

(19時 25分)


③



2時 35分

(14時 35分)


④



11時 20分

(23時 20分)


⑤



4時 5分

(16時 5分)


⑥



6時 40分

(18時 40分)


⑦



1時 50分

(13時 50分)


⑧



7時 55分

(19時 55分)

⑨



5時 40分

(17時 40分)