

【アナログ時計読み】

5分刻み

No.009

名前 _____

とけい はり さ じこく か


★時計の針が指している時刻を書きましょう

分 秒

正解数


/ 9

①




時 分

②



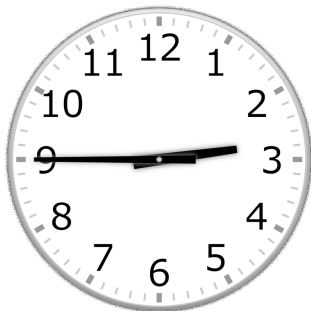
時 分

③



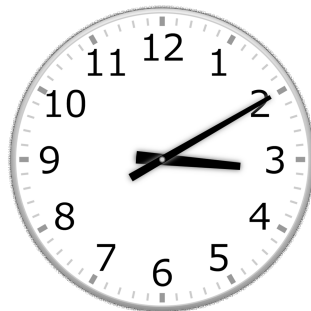
時 分

④



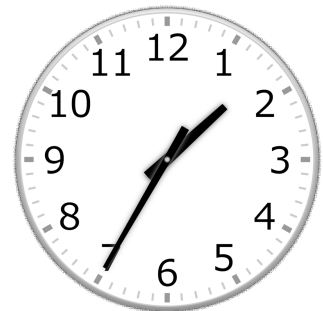
時 分

⑤




時 分

⑥




時 分

⑦




時 分

⑧



時 分

⑨



時 分

【アナログ時計読み】

5分刻み

No.009

名前 _____

とけい はり さ じこく か


★時計の針が指している時刻を書きましょう

分 秒

正解数

/ 9


①



9時 25分

(21時 25分)


②



10時 0分

(22時 0分)

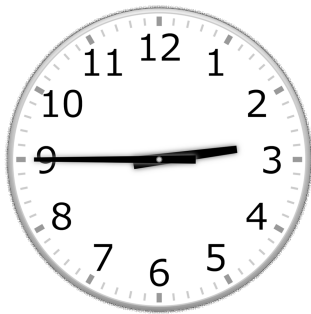
③



5時 20分

(17時 20分)


④



2時 45分

(14時 45分)


⑤



3時 10分

(15時 10分)


⑥



1時 35分

(13時 35分)


⑦



4時 40分

(16時 40分)


⑧



5時 0分

(17時 0分)

⑨



1時 50分

(13時 50分)