

【アナログ時計読み】

5分刻み

No.008

名前 _____

とけい はり さ じこく か


★時計の針が指している時刻を書きましょう

分 秒

正解数


/ 9

①




時 分

②




時 分

③




時 分

④




時 分

⑤




時 分

⑥




時 分

⑦




時 分

⑧



時 分

⑨



時 分

【アナログ時計読み】

5分刻み

No.008

名前 _____

とけい はり さ じこく か


★時計の針が指している時刻を書きましょう

分 秒

正解数

/ 9


①



2時 5分

(14時 5分)


②



4時 35分

(16時 35分)


③



11時 25分

(23時 25分)

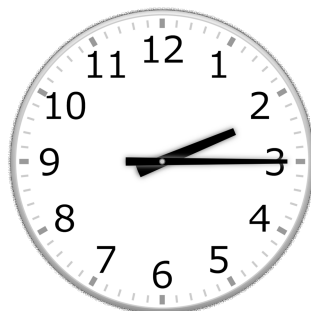
④



10時 20分

(22時 20分)


⑤



2時 15分

(14時 15分)


⑥



7時 50分

(19時 50分)


⑦



4時 55分

(16時 55分)


⑧



5時 0分

(17時 0分)

⑨



9時 40分

(21時 40分)