

【アナログ時計読み】

5分刻み

No.007

名前 _____

とけい はり さ じこく か


★時計の針が指している時刻を書きましょう

分 秒

正解数


/ 9

①




時 分

②




時 分

③




時 分

④




時 分

⑤




時 分

⑥




時 分

⑦



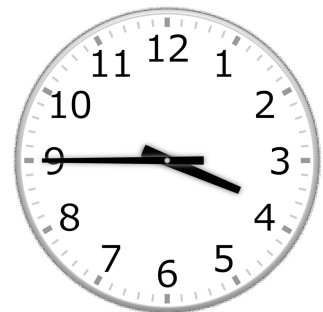
時 分

⑧



時 分

⑨



時 分

【アナログ時計読み】

5分刻み

No.007

名前 _____

とけい はり さ じこく か


★時計の針が指している時刻を書きましょう

分 秒

正解数

/9


①



10時 40分

(22時 40分)

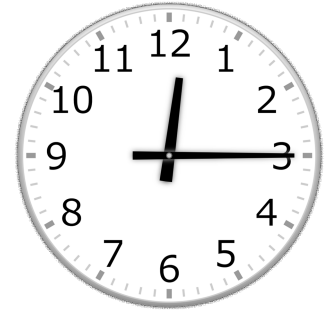
②



6時 30分

(18時 30分)


③



12時 15分

(0時 15分)


④



10時 5分

(22時 5分)


⑤



9時 55分

(21時 55分)


⑥



8時 35分

(20時 35分)


⑦



1時 25分

(13時 25分)


⑧



4時 20分

(16時 20分)

⑨



3時 45分

(15時 45分)