

【アナログ時計読み】

5分刻み

No.006

名前 _____

とけい はり さ じこく か


★時計の針が指している時刻を書きましょう

分 秒

正解数


/ 9

①




時 分

②




時 分

③




時 分

④




時 分

⑤




時 分

⑥




時 分

⑦




時 分

⑧



時 分

⑨



時 分

【アナログ時計読み】

5分刻み

No.006

名前 _____

とけい はり さ じこく か


★時計の針が指している時刻を書きましょう

分 秒

正解数

/ 9


①



5時 30分

(17時 30分)


②



7時 25分

(19時 25分)


③



6時 40分

(18時 40分)


④



10時 55分

(22時 55分)


⑤



6時 10分

(18時 10分)


⑥



8時 5分

(20時 5分)


⑦



2時 50分

(14時 50分)


⑧



5時 15分

(17時 15分)

⑨



1時 45分

(13時 45分)