

# 【アナログ時計読み】

5分刻み

No.004

名前 \_\_\_\_\_

とけい はり さ じこく か


★時計の針が指している時刻を書きましょう

分 秒

正解数


/ 9

①




時 分

②




時 分

③




時 分

④




時 分

⑤




時 分

⑥



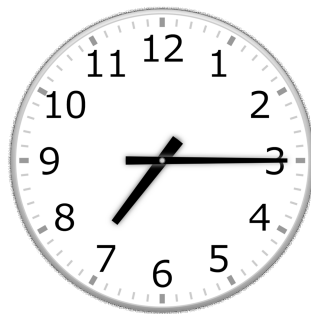
時 分

⑦




時 分

⑧



時 分

⑨



時 分

# 【アナログ時計読み】

5分刻み

No.004

名前 \_\_\_\_\_

とけい はり さ                      じこく か


★時計の針が指している時刻を書きましょう

分 秒

正解数

/ 9


①



11時 20分

(23時 20分)


②



5時 15分

(17時 15分)


③



8時 50分

(20時 50分)

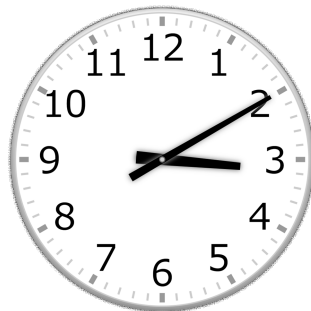
④



11時 45分

(23時 45分)


⑤



3時 10分

(15時 10分)


⑥



7時 5分

(19時 5分)

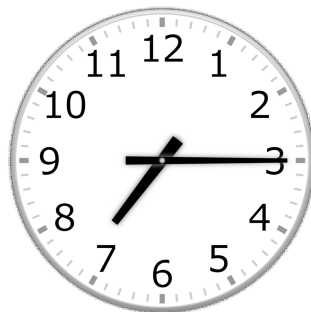
⑦



5時 35分

(17時 35分)


⑧



7時 15分

(19時 15分)

⑨



10時 40分

(22時 40分)