

# 【アナログ時計読み】

5分刻み

No.003

名前 \_\_\_\_\_

とけい はり さ                      じこく か


★時計の針が指している時刻を書きましょう

分 秒

正解数


/ 9

①




時 分

②




時 分

③




時 分

④




時 分

⑤




時 分

⑥



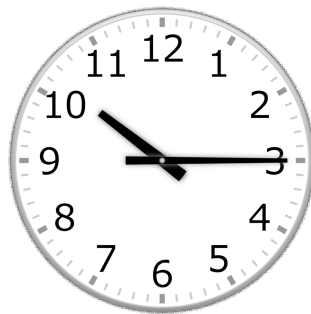
時 分

⑦




時 分

⑧



時 分

⑨



時 分

# 【アナログ時計読み】

5分刻み

No.003

名前 \_\_\_\_\_

とけい はり さ                      じこく か


★時計の針が指している時刻を書きましょう

分 秒

正解数

/ 9


①



3時 50分

(15時 50分)


②



5時 25分

(17時 25分)


③



11時 0分

(23時 0分)


④



1時 30分

(13時 30分)


⑤



11時 40分

(23時 40分)


⑥



10時 45分

(22時 45分)

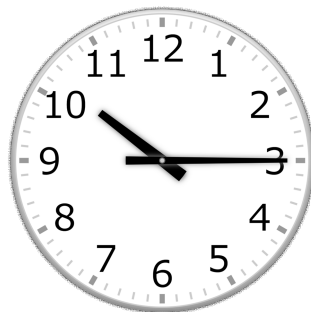
⑦



2時 10分

(14時 10分)


⑧



10時 15分

(22時 15分)

⑨



8時 25分

(20時 25分)