

【アナログ時計読み】

5分刻み

No.002

名前 _____

とけい はり さ じこく か


★時計の針が指している時刻を書きましょう

分 秒

正解数


/ 9

①




時 分

②




時 分

③




時 分

④




時 分

⑤




時 分

⑥




時 分

⑦




時 分

⑧



時 分

⑨



時 分

【アナログ時計読み】

5分刻み

No.002

名前 _____

とけい はり さ じこく か


★時計の針が指している時刻を書きましょう

分 秒

正解数

/ 9


①



8時 55分

(20時 55分)


②



6時 15分

(18時 15分)


③



5時 35分

(17時 35分)


④



11時 25分

(23時 25分)


⑤



3時 40分

(15時 40分)


⑥



9時 5分

(21時 5分)


⑦



7時 15分

(19時 15分)


⑧



2時 55分

(14時 55分)

⑨



3時 5分

(15時 5分)