

【アナログ時計読み】

5分刻み

No.001

名前 _____

とけい はり さ じこく か


★時計の針が指している時刻を書きましょう

分 秒

正解数

/ 9


①



7時 15分

(19時 15分)


②



5時 30分

(17時 30分)


③



12時 15分

(0時 15分)


④



9時 20分

(21時 20分)


⑤



11時 45分

(23時 45分)


⑥



12時 40分

(0時 40分)


⑦



8時 25分

(20時 25分)


⑧



5時 10分

(17時 10分)

⑨



10時 55分

(22時 55分)

【アナログ時計読み】

5分刻み

No.002

名前 _____

とけい はり さ じこく か


★時計の針が指している時刻を書きましょう

分 秒

正解数

/ 9


①



8時 55分

(20時 55分)


②



6時 15分

(18時 15分)


③



5時 35分

(17時 35分)


④



11時 25分

(23時 25分)


⑤



3時 40分

(15時 40分)


⑥



9時 5分

(21時 5分)


⑦



7時 15分

(19時 15分)


⑧



2時 55分

(14時 55分)

⑨



3時 5分

(15時 5分)

【アナログ時計読み】

5分刻み

No.003

名前 _____

とけい はり さ じこく か


★時計の針が指している時刻を書きましょう

分 秒

正解数

/ 9


①



3時 50分

(15時 50分)


②



5時 25分

(17時 25分)


③



11時 0分

(23時 0分)


④



1時 30分

(13時 30分)


⑤



11時 40分

(23時 40分)


⑥



10時 45分

(22時 45分)

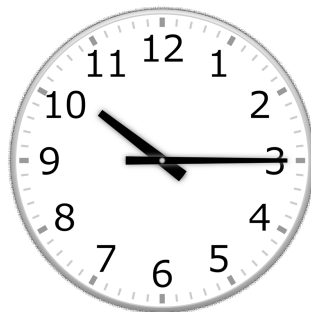
⑦



2時 10分

(14時 10分)


⑧



10時 15分

(22時 15分)

⑨



8時 25分

(20時 25分)

【アナログ時計読み】

5分刻み

No.004

名前 _____

とけい はり さ じこく か


★時計の針が指している時刻を書きましょう

分 秒

正解数

/ 9


①



11時 20分

(23時 20分)


②



5時 15分

(17時 15分)


③



8時 50分

(20時 50分)

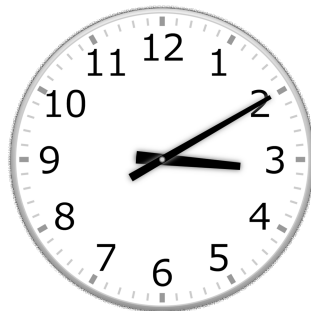
④



11時 45分

(23時 45分)


⑤



3時 10分

(15時 10分)


⑥



7時 5分

(19時 5分)

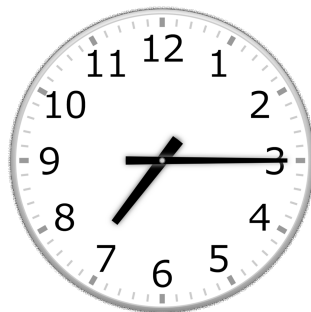
⑦



5時 35分

(17時 35分)


⑧



7時 15分

(19時 15分)

⑨



10時 40分

(22時 40分)

【アナログ時計読み】

5分刻み

No.005

名前 _____

とけい はり さ じこく か


★時計の針が指している時刻を書きましょう

分 秒

正解数

/ 9


①



11時 45分

(23時 45分)


②



7時 40分

(19時 40分)


③



1時 15分

(13時 15分)


④



3時 40分

(15時 40分)


⑤



8時 55分

(20時 55分)


⑥



12時 10分

(0時 10分)


⑦



6時 25分

(18時 25分)


⑧



5時 50分

(17時 50分)

⑨



10時 25分

(22時 25分)

【アナログ時計読み】

5分刻み

No.006

名前 _____

とけい はり さ じこく か


★時計の針が指している時刻を書きましょう

分 秒

正解数

/ 9


①



5時 30分

(17時 30分)


②



7時 25分

(19時 25分)


③



6時 40分

(18時 40分)


④



10時 55分

(22時 55分)


⑤



6時 10分

(18時 10分)


⑥



8時 5分

(20時 5分)


⑦



2時 50分

(14時 50分)


⑧



5時 15分

(17時 15分)

⑨



1時 45分

(13時 45分)

【アナログ時計読み】

5分刻み

No.007

名前 _____

とけい はり さ じこく か


★時計の針が指している時刻を書きましょう

分 秒

正解数

/ 9


①



10時 40分

(22時 40分)


②



6時 30分

(18時 30分)


③



12時 15分

(0時 15分)


④



10時 5分

(22時 5分)


⑤



9時 55分

(21時 55分)


⑥



8時 35分

(20時 35分)


⑦



1時 25分

(13時 25分)

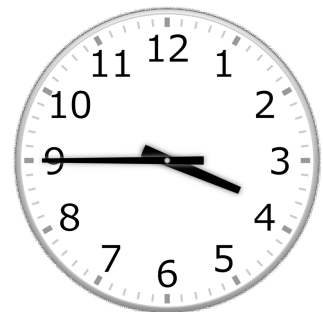
⑧



4時 20分

(16時 20分)

⑨



3時 45分

(15時 45分)

【アナログ時計読み】

5分刻み

No.008

名前 _____

とけい はり さ じこく か


★時計の針が指している時刻を書きましょう

分 秒

正解数

/ 9


①



2時 5分

(14時 5分)


②



4時 35分

(16時 35分)


③



11時 25分

(23時 25分)

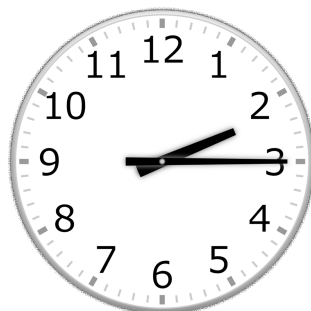
④



10時 20分

(22時 20分)


⑤



2時 15分

(14時 15分)


⑥



7時 50分

(19時 50分)


⑦



4時 55分

(16時 55分)


⑧



5時 0分

(17時 0分)

⑨



9時 40分

(21時 40分)

【アナログ時計読み】

5分刻み

No.009

名前 _____

とけい はり さ じこく か


★時計の針が指している時刻を書きましょう

分 秒

正解数

/ 9


①



9時 25分

(21時 25分)


②



10時 0分

(22時 0分)

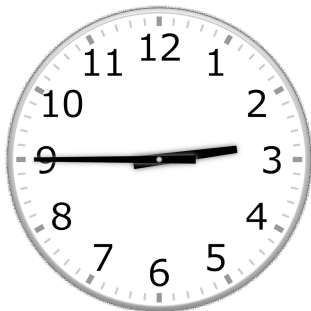
③



5時 20分

(17時 20分)

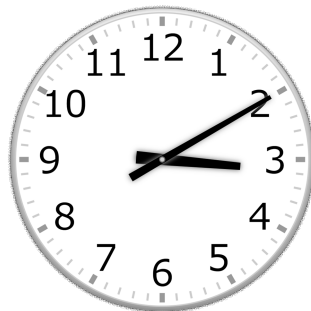
④



2時 45分

(14時 45分)

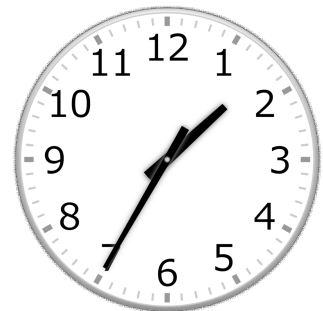
⑤



3時 10分

(15時 10分)


⑥



1時 35分

(13時 35分)


⑦



4時 40分

(16時 40分)


⑧



5時 0分

(17時 0分)

⑨



1時 50分

(13時 50分)

【アナログ時計読み】

5分刻み

No.010

名前 _____

とけい はり さ じこく か


★時計の針が指している時刻を書きましょう

分 秒

正解数

/ 9


①



10時 0分

(22時 0分)


②



7時 25分

(19時 25分)


③



2時 35分

(14時 35分)


④



11時 20分

(23時 20分)


⑤



4時 5分

(16時 5分)


⑥



6時 40分

(18時 40分)


⑦



1時 50分

(13時 50分)


⑧



7時 55分

(19時 55分)

⑨



5時 40分

(17時 40分)