

【アナログ時計読み】

名前 _____

1分刻み

No.010

とけい はり さ じこく か


★時計の針が指している時刻を書きましょう

分 秒

正解数


/ 9

①




時 分

②




時 分

③




時 分

④




時 分

⑤




時 分

⑥




時 分

⑦




時 分

⑧



時 分

⑨



時 分

【アナログ時計読み】

名前 _____

1分刻み

No.010

とけい はり さ じこく か


★時計の針が指している時刻を書きましょう

分 秒

正解数

/9


①



1時 21分

(13時 21分)


②



7時 39分

(19時 39分)


③



4時 19分

(16時 19分)


④



3時 0分

(15時 0分)


⑤



1時 23分

(13時 23分)

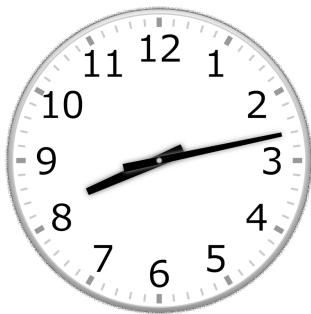
⑥



11時 11分

(23時 11分)


⑦



8時 13分

(20時 13分)


⑧



6時 44分

(18時 44分)

⑨



12時 38分

(0時 38分)