

【アナログ時計読み】

名前 _____

1分刻み

No.009

とけい はり さ じこく か


★時計の針が指している時刻を書きましょう

分 秒

正解数


/ 9

①




時 分

②




時 分

③




時 分

④




時 分

⑤




時 分

⑥




時 分

⑦




時 分

⑧



時 分

⑨



時 分

【アナログ時計読み】

名前 _____

1分刻み

No.009

とけい はり さ じこく か


★時計の針が指している時刻を書きましょう

分 秒

正解数

/9


①



4時 33分

(16時 33分)


②



2時 1分

(14時 1分)


③



7時 18分

(19時 18分)


④



9時 26分

(21時 26分)


⑤



2時 25分

(14時 25分)


⑥



1時 0分

(13時 0分)


⑦



12時 21分

(0時 21分)


⑧



11時 58分

(23時 58分)

⑨



10時 35分

(22時 35分)