

【アナログ時計読み】

1分刻み

No.008

名前 _____

とけい はり さ じこく か


★時計の針が指している時刻を書きましょう

分 秒

正解数


/9

①




時 分

②




時 分

③




時 分

④




時 分

⑤




時 分

⑥




時 分

⑦




時 分

⑧



時 分

⑨



時 分

【アナログ時計読み】

名前 _____

1分刻み

No.008

とけい はり さ じこく か


★時計の針が指している時刻を書きましょう

分 秒

正解数

/9


①



1時 23分

(13時 23分)


②



3時 30分

(15時 30分)


③



5時 31分

(17時 31分)


④



7時 25分

(19時 25分)


⑤



12時 51分

(0時 51分)


⑥



7時 55分

(19時 55分)


⑦



8時 57分

(20時 57分)


⑧



9時 36分

(21時 36分)

⑨



3時 9分

(15時 9分)