

【アナログ時計読み】

名前 _____

1分刻み

No.007

とけい はり さ じこく か


★時計の針が指している時刻を書きましょう

分 秒

正解数


/9

①




時 分

②




時 分

③




時 分

④




時 分

⑤




時 分

⑥




時 分

⑦




時 分

⑧



時 分

⑨



時 分

【アナログ時計読み】

名前 _____

1分刻み

No.007

とけい はり さ じこく か


★時計の針が指している時刻を書きましょう

分 秒

正解数

/9


①



9時 57分

(21時 57分)


②



3時 9分

(15時 9分)


③



1時 58分

(13時 58分)


④



4時 13分

(16時 13分)


⑤



8時 4分

(20時 4分)


⑥



10時 12分

(22時 12分)


⑦



5時 21分

(17時 21分)


⑧



6時 16分

(18時 16分)

⑨



9時 29分

(21時 29分)