

【アナログ時計読み】

名前 _____

1分刻み

No.006

とけい はり さ じこく か


★時計の針が指している時刻を書きましょう

分 秒

正解数


/ 9

①




時 分

②




時 分

③




時 分

④




時 分

⑤




時 分

⑥




時 分

⑦




時 分

⑧



時 分

⑨



時 分

【アナログ時計読み】

1分刻み

No.006

名前 _____

とけい はり さ じこく か


★時計の針が指している時刻を書きましょう

分 秒

正解数

/ 9


①



11時 7分

(23時 7分)


②



10時 23分

(22時 23分)


③



11時 24分

(23時 24分)


④



2時 59分

(14時 59分)


⑤



8時 37分

(20時 37分)


⑥



12時 28分

(0時 28分)


⑦



7時 45分

(19時 45分)


⑧



4時 42分

(16時 42分)

⑨



10時 58分

(22時 58分)