

【アナログ時計読み】

1分刻み

No.005

名前 _____


とけい はり さ じこく か
★時計の針が指している時刻を書きましょう

分 秒

正解数


/ 9

①




時 分

②




時 分

③




時 分

④




時 分

⑤




時 分

⑥




時 分

⑦




時 分

⑧



時 分

⑨



時 分

【アナログ時計読み】

1分刻み

No.005

名前 _____

とけい はり さ じこく か


★時計の針が指している時刻を書きましょう

分 秒

正解数

/ 9


①



5時 48分

(17時 48分)


②



7時 26分

(19時 26分)


③



6時 39分

(18時 39分)


④



9時 56分

(21時 56分)


⑤



10時 9分

(22時 9分)


⑥



7時 41分

(19時 41分)


⑦



1時 44分

(13時 44分)


⑧



2時 34分

(14時 34分)

⑨



6時 20分

(18時 20分)