

# 【アナログ時計読み】

名前 \_\_\_\_\_

1分刻み

No.004

とけい はり さ      じこく か


★時計の針が指している時刻を書きましょう

分 秒

正解数


/ 9

①




時 分

②




時 分

③




時 分

④




時 分

⑤




時 分

⑥




時 分

⑦




時 分

⑧



時 分

⑨



時 分

# 【アナログ時計読み】

名前 \_\_\_\_\_

1分刻み

No.004

とけい はり さ                      じこく か


★時計の針が指している時刻を書きましょう

分 秒

正解数

/9


①



12時 29分

(0時 29分)


②



4時 45分

(16時 45分)


③



3時 40分

(15時 40分)


④



1時 51分

(13時 51分)


⑤



5時 41分

(17時 41分)


⑥



10時 35分

(22時 35分)


⑦



11時 27分

(23時 27分)


⑧



8時 58分

(20時 58分)

⑨



11時 18分

(23時 18分)