

【アナログ時計読み】

1分刻み

No.003

名前 _____

とけい はり さ じこく か


★時計の針が指している時刻を書きましょう

分 秒

正解数


/ 9

①




時 分

②




時 分

③




時 分

④




時 分

⑤




時 分

⑥




時 分

⑦




時 分

⑧



時 分

⑨



時 分

【アナログ時計読み】

1分刻み

No.003

名前 _____

とけい はり さ じこく か


★時計の針が指している時刻を書きましょう

分 秒

正解数

/ 9


①



1時 13分

(13時 13分)


②



3時 44分

(15時 44分)


③



6時 54分

(18時 54分)


④



10時 33分

(22時 33分)


⑤



8時 49分

(20時 49分)


⑥



12時 40分

(0時 40分)


⑦



2時 4分

(14時 4分)


⑧



11時 50分

(23時 50分)

⑨



2時 38分

(14時 38分)