

【アナログ時計読み】

名前 _____

1分刻み

No.002

とけい はり さ じこく か


★時計の針が指している時刻を書きましょう

分 秒

正解数


/ 9

①




時 分

②




時 分

③




時 分

④




時 分

⑤




時 分

⑥




時 分

⑦




時 分

⑧



時 分

⑨



時 分

【アナログ時計読み】

名前 _____

1分刻み

No.002

とけい はり さ じこく か


★時計の針が指している時刻を書きましょう

分 秒

正解数

/ 9


①



1時 18分

(13時 18分)


②



2時 28分

(14時 28分)


③



12時 3分

(0時 3分)


④



10時 58分

(22時 58分)


⑤



5時 24分

(17時 24分)


⑥



4時 51分

(16時 51分)


⑦



11時 36分

(23時 36分)


⑧



12時 33分

(0時 33分)

⑨



8時 56分

(20時 56分)