

# 【アナログ時計読み】

名前 \_\_\_\_\_

10分刻み

No.010

とけい はり さ                      じこく か


★時計の針が指している時刻を書きましょう

分 秒

正解数


/ 9

①




時 分

②




時 分

③




時 分

④




時 分

⑤




時 分

⑥




時 分

⑦




時 分

⑧



時 分

⑨



時 分

# 【アナログ時計読み】

名前 \_\_\_\_\_

10分刻み

No.010

とけい はり さ                      じこく か


★時計の針が指している時刻を書きましょう

分 秒

正解数

/ 9


①



5時 10分

(17時 10分)


②



8時 20分

(20時 20分)


③



10時 40分

(22時 40分)


④



3時 40分

(15時 40分)

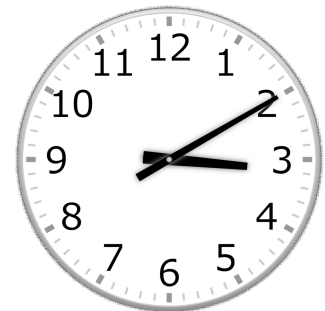
⑤



4時 30分

(16時 30分)


⑥



3時 10分

(15時 10分)


⑦



11時 50分

(23時 50分)


⑧



1時 0分

(13時 0分)

⑨



9時 30分

(21時 30分)