

【アナログ時計読み】

名前 _____

10分刻み

No.009

とけい はり さ じこく か


★時計の針が指している時刻を書きましょう

分 秒

正解数


/ 9

①




時 分

②




時 分

③




時 分

④




時 分

⑤




時 分

⑥




時 分

⑦




時 分

⑧



時 分

⑨



時 分

【アナログ時計読み】

名前 _____

10分刻み

No.009

とけい はり さ じこく か


★時計の針が指している時刻を書きましょう

分 秒

正解数

/9


①



1時 50分

(13時 50分)


②



6時 20分

(18時 20分)


③



8時 50分

(20時 50分)


④



3時 30分

(15時 30分)


⑤



2時 50分

(14時 50分)


⑥



4時 30分

(16時 30分)


⑦



7時 10分

(19時 10分)


⑧



12時 40分

(0時 40分)

⑨



12時 20分

(0時 20分)