

【アナログ時計読み】

10分刻み

No.008

名前 _____

とけい はり さ じこく か


★時計の針が指している時刻を書きましょう

分 秒

正解数


/ 9

①




時 分

②




時 分

③




時 分

④




時 分

⑤




時 分

⑥




時 分

⑦




時 分

⑧



時 分

⑨



時 分

【アナログ時計読み】

名前 _____

10分刻み

No.008

とけい はり さ じこく か


★時計の針が指している時刻を書きましょう

分 秒

正解数

/ 9


①



5時 10分

(17時 10分)


②



2時 50分

(14時 50分)


③



1時 0分

(13時 0分)


④



10時 20分

(22時 20分)


⑤



8時 10分

(20時 10分)


⑥



7時 40分

(19時 40分)


⑦



1時 40分

(13時 40分)


⑧



11時 50分

(23時 50分)

⑨



3時 20分

(15時 20分)