

【アナログ時計読み】

名前 _____

10分刻み

No.007

とけい はり さ じこく か


★時計の針が指している時刻を書きましょう

分 秒

正解数


/ 9

①




時 分

②




時 分

③




時 分

④




時 分

⑤




時 分

⑥




時 分

⑦




時 分

⑧



時 分

⑨



時 分

【アナログ時計読み】

10分刻み

No.007

名前 _____

とけい はり さ じこく か


★時計の針が指している時刻を書きましょう

分 秒

正解数

/ 9


①



8時 0分

(20時 0分)


②



3時 40分

(15時 40分)


③



11時 0分

(23時 0分)


④



5時 10分

(17時 10分)


⑤



10時 20分

(22時 20分)


⑥



4時 20分

(16時 20分)


⑦



6時 50分

(18時 50分)


⑧



9時 20分

(21時 20分)

⑨



2時 20分

(14時 20分)