

【アナログ時計読み】

10分刻み

No.006

名前 _____


とけい はり さ じこく か
 ★時計の針が指している時刻を書きましょう

分 秒

正解数


/ 9

①




時 分

②




時 分

③



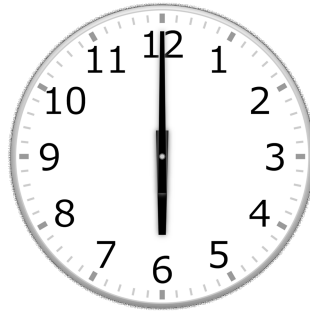
時 分

④




時 分

⑤




時 分

⑥




時 分

⑦




時 分

⑧



時 分

⑨



時 分

【アナログ時計読み】

10分刻み

No.006

名前 _____

とけい はり さ じこく か


★時計の針が指している時刻を書きましょう

分 秒

正解数

/ 9


①



7時 0分

(19時 0分)


②



5時 20分

(17時 20分)


③



2時 30分

(14時 30分)


④



3時 30分

(15時 30分)


⑤



6時 0分

(18時 0分)


⑥



4時 30分

(16時 30分)


⑦



1時 0分

(13時 0分)


⑧



6時 50分

(18時 50分)

⑨



12時 20分

(0時 20分)