

【アナログ時計読み】

10分刻み

No.005

名前 _____

とけい はり さ じこく か


★時計の針が指している時刻を書きましょう

分 秒

正解数


/ 9

①




時 分

②




時 分

③




時 分

④




時 分

⑤




時 分

⑥




時 分

⑦




時 分

⑧



時 分

⑨



時 分

【アナログ時計読み】

名前 _____

10分刻み

No.005

とけい はり さ じこく か


★時計の針が指している時刻を書きましょう

分 秒

正解数

/ 9


①



4時 0分

(16時 0分)


②



2時 20分

(14時 20分)


③



12時 30分

(0時 30分)


④



7時 40分

(19時 40分)


⑤



6時 30分

(18時 30分)


⑥



8時 20分

(20時 20分)


⑦



10時 0分

(22時 0分)


⑧



3時 10分

(15時 10分)

⑨



2時 40分

(14時 40分)