

【アナログ時計読み】

名前 _____

10分刻み

No.004

とけい はり さ じこく か


★時計の針が指している時刻を書きましょう

分 秒

正解数


/ 9

①




時 分

②




時 分

③




時 分

④




時 分

⑤




時 分

⑥




時 分

⑦




時 分

⑧



時 分

⑨



時 分

【アナログ時計読み】

10分刻み

No.004

名前 _____

とけい はり さ じこく か


★時計の針が指している時刻を書きましょう

分 秒

正解数

/9


①



12時 0分

(0時 0分)


②



2時 40分

(14時 40分)


③



4時 30分

(16時 30分)


④



9時 30分

(21時 30分)


⑤



11時 40分

(23時 40分)


⑥



5時 0分

(17時 0分)


⑦



5時 30分

(17時 30分)


⑧



10時 0分

(22時 0分)

⑨



8時 20分

(20時 20分)