

【アナログ時計読み】

名前 _____

10分刻み

No.003

とけい はり さ じこく か


★時計の針が指している時刻を書きましょう

分 秒

正解数


/ 9

①




時 分

②




時 分

③




時 分

④




時 分

⑤




時 分

⑥




時 分

⑦




時 分

⑧



時 分

⑨



時 分

【アナログ時計読み】

名前 _____

10分刻み

No.003

とけい はり さ じこく か


★時計の針が指している時刻を書きましょう

分 秒

正解数

/ 9


①



2時 50分

(14時 50分)


②



12時 20分

(0時 20分)


③



4時 40分

(16時 40分)


④



10時 30分

(22時 30分)


⑤



5時 30分

(17時 30分)


⑥



2時 20分

(14時 20分)


⑦



1時 0分

(13時 0分)


⑧



9時 40分

(21時 40分)

⑨



6時 10分

(18時 10分)