

【アナログ時計読み】

名前 _____

10分刻み

No.002

とけい はり さ じこく か


★時計の針が指している時刻を書きましょう

分 秒

正解数


/ 9

①




時 分

②




時 分

③




時 分

④




時 分

⑤




時 分

⑥




時 分

⑦




時 分

⑧



時 分

⑨



時 分

【アナログ時計読み】

名前 _____

10分刻み

No.002

とけい はり さ じこく か


★時計の針が指している時刻を書きましょう

分 秒

正解数

/ 9


①



8時 30分

(20時 30分)


②



9時 10分

(21時 10分)


③



2時 50分

(14時 50分)


④



5時 30分

(17時 30分)


⑤



11時 40分

(23時 40分)


⑥



7時 20分

(19時 20分)


⑦



6時 30分

(18時 30分)


⑧



12時 50分

(0時 50分)

⑨



5時 10分

(17時 10分)