

【アナログ時計読み】

名前 _____

10分刻み

No.001

とけい はり さ じこく か


★時計の針が指している時刻を書きましょう

分 秒

正解数

/9


①



1時 10分

(13時 10分)


②



2時 30分

(14時 30分)


③



5時 30分

(17時 30分)


④



3時 50分

(15時 50分)


⑤



11時 40分

(23時 40分)


⑥



10時 20分

(22時 20分)


⑦



7時 10分

(19時 10分)

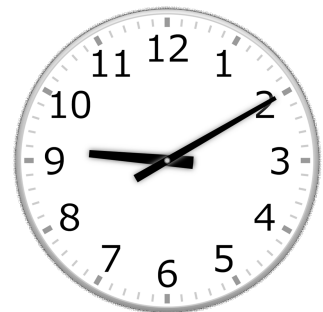
⑧



5時 0分

(17時 0分)

⑨



9時 10分

(21時 10分)

【アナログ時計読み】

名前 _____

10分刻み

No.002

とけい はり さ じこく か


★時計の針が指している時刻を書きましょう

分 秒

正解数

/ 9


①



8時 30分

(20時 30分)


②



9時 10分

(21時 10分)


③



2時 50分

(14時 50分)


④



5時 30分

(17時 30分)


⑤



11時 40分

(23時 40分)


⑥



7時 20分

(19時 20分)


⑦



6時 30分

(18時 30分)


⑧



12時 50分

(0時 50分)

⑨



5時 10分

(17時 10分)

【アナログ時計読み】

名前 _____

10分刻み

No.003

とけい はり さ じこく か


★時計の針が指している時刻を書きましょう

分 秒

正解数

/ 9


①



2時 50分

(14時 50分)


②



12時 20分

(0時 20分)


③



4時 40分

(16時 40分)


④



10時 30分

(22時 30分)


⑤



5時 30分

(17時 30分)


⑥



2時 20分

(14時 20分)


⑦



1時 0分

(13時 0分)


⑧



9時 40分

(21時 40分)

⑨



6時 10分

(18時 10分)

【アナログ時計読み】

名前 _____

10分刻み

No.004

とけい はり さ じこく か


★時計の針が指している時刻を書きましょう

分 秒

正解数

/9


①



12時 0分

(0時 0分)


②



2時 40分

(14時 40分)


③



4時 30分

(16時 30分)


④



9時 30分

(21時 30分)


⑤



11時 40分

(23時 40分)


⑥



5時 0分

(17時 0分)


⑦



5時 30分

(17時 30分)


⑧



10時 0分

(22時 0分)

⑨



8時 20分

(20時 20分)

【アナログ時計読み】

名前 _____

10分刻み

No.005

とけい はり さ じこく か


★時計の針が指している時刻を書きましょう

分 秒

正解数

/ 9


①



4時 0分

(16時 0分)


②



2時 20分

(14時 20分)


③



12時 30分

(0時 30分)


④



7時 40分

(19時 40分)


⑤



6時 30分

(18時 30分)


⑥



8時 20分

(20時 20分)


⑦



10時 0分

(22時 0分)


⑧



3時 10分

(15時 10分)

⑨



2時 40分

(14時 40分)

【アナログ時計読み】

10分刻み

No.006

名前 _____

とけい はり さ じこく か


★時計の針が指している時刻を書きましょう

分 秒

正解数

/ 9


①



7時 0分

(19時 0分)


②



5時 20分

(17時 20分)


③



2時 30分

(14時 30分)

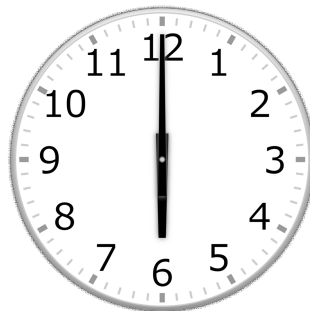
④



3時 30分

(15時 30分)


⑤



6時 0分

(18時 0分)


⑥



4時 30分

(16時 30分)


⑦



1時 0分

(13時 0分)


⑧



6時 50分

(18時 50分)

⑨



12時 20分

(0時 20分)

【アナログ時計読み】

名前 _____

10分刻み

No.007

とけい はり さ じこく か


★時計の針が指している時刻を書きましょう

分 秒

正解数

/ 9


①



8時 0分

(20時 0分)


②



3時 40分

(15時 40分)


③



11時 0分

(23時 0分)


④



5時 10分

(17時 10分)


⑤



10時 20分

(22時 20分)


⑥



4時 20分

(16時 20分)


⑦



6時 50分

(18時 50分)


⑧



9時 20分

(21時 20分)

⑨



2時 20分

(14時 20分)

【アナログ時計読み】

名前 _____

10分刻み

No.008

とけい はり さ じこく か


★時計の針が指している時刻を書きましょう

分 秒

正解数

/ 9


①



5時 10分

(17時 10分)


②



2時 50分

(14時 50分)


③



1時 0分

(13時 0分)


④



10時 20分

(22時 20分)


⑤



8時 10分

(20時 10分)


⑥



7時 40分

(19時 40分)


⑦



1時 40分

(13時 40分)


⑧



11時 50分

(23時 50分)

⑨



3時 20分

(15時 20分)

【アナログ時計読み】

名前 _____

10分刻み

No.009

とけい はり さ じこく か


★時計の針が指している時刻を書きましょう

分 秒

正解数

/ 9


①



1時 50分

(13時 50分)


②



6時 20分

(18時 20分)


③



8時 50分

(20時 50分)


④



3時 30分

(15時 30分)


⑤



2時 50分

(14時 50分)


⑥



4時 30分

(16時 30分)


⑦



7時 10分

(19時 10分)


⑧



12時 40分

(0時 40分)

⑨



12時 20分

(0時 20分)

【アナログ時計読み】

名前 _____

10分刻み

No.010

とけい はり さ じこく か


★時計の針が指している時刻を書きましょう

分 秒

正解数

/ 9


①



5時 10分

(17時 10分)


②



8時 20分

(20時 20分)


③



10時 40分

(22時 40分)


④



3時 40分

(15時 40分)


⑤



4時 30分

(16時 30分)


⑥



3時 10分

(15時 10分)


⑦



11時 50分

(23時 50分)


⑧



1時 0分

(13時 0分)

⑨



9時 30分

(21時 30分)