

# 【アナログ時計の針をかく】

1分刻み 24時間表記

名前 \_\_\_\_\_

No.001

じこく あ とけい はり  
★時刻に合わせて時計の針をかきましょう

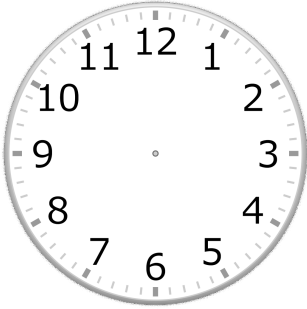
分 秒

たんしん じしん すこ みじか ちょうしん ふんしん なが  
※短針（時針）は少し短く、長針（分針）は長くかきましょう

正解数

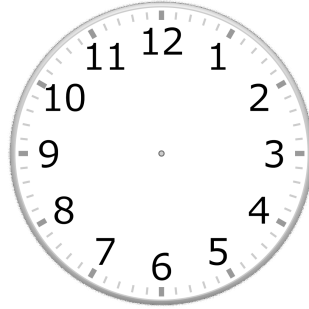
/9

①



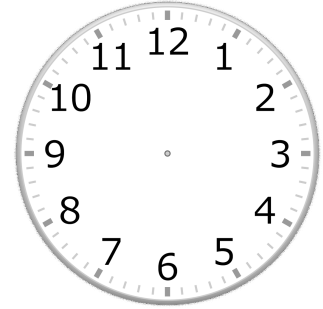
11時 59分

②



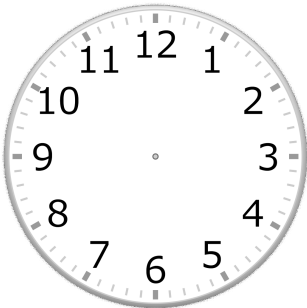
7時 3分

③



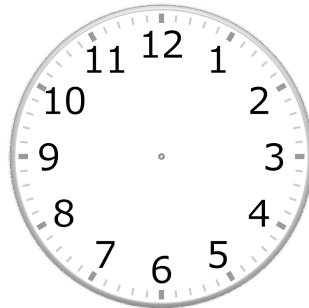
0時 45分

④



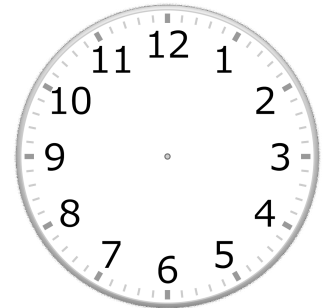
16時 10分

⑤



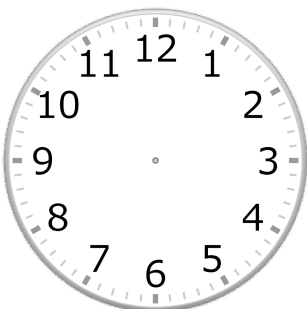
1時 12分

⑥



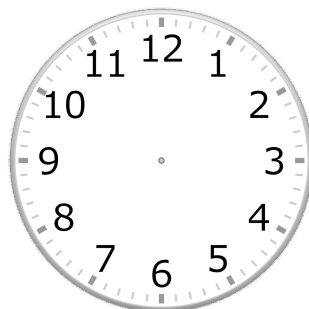
4時 22分

⑦



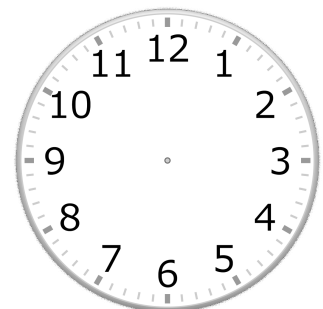
19時 6分

⑧



14時 0分

⑨



7時 54分

# 【アナログ時計の針をかく】

1分刻み 24時間表記

名前 \_\_\_\_\_

No.001

じこく あ とけい はり  
★時刻に合わせて時計の針をかきましょう


分 秒

たんしん じしん すこ みじか ちょうしん ふんしん なが  
※短針（時針）は少し短く、長針（分針）は長くかきましょう

正解数


/9

①




11時 59分

②




7時 3分

③




0時 45分

④




16時 10分

⑤




1時 12分

⑥




4時 22分

⑦




19時 6分

⑧



14時 0分

⑨



7時 54分