

【鏡時計読み】

反転アナログ時計 5分刻み

名前 _____

No.001

かがみどけい はり さ じこく か


★鏡時計の針が指している時刻を書きましょう

分 秒

正解数

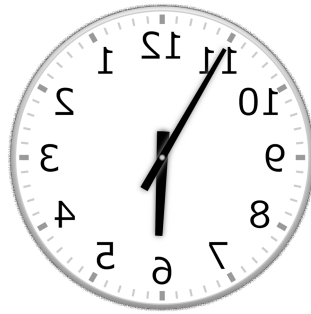
/ 9

①




時 分

②




時 分

③



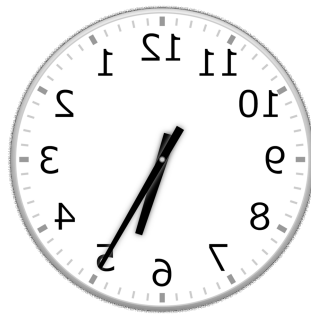
時 分

④




時 分

⑤



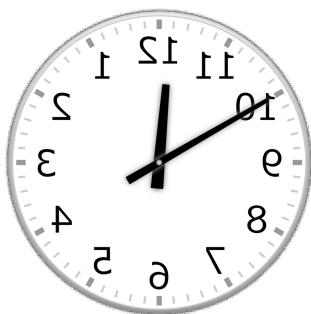
時 分

⑥



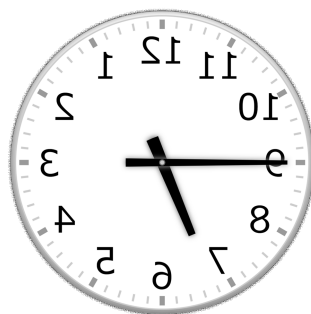
時 分

⑦




時 分

⑧



時 分

⑨



時 分

【鏡時計読み】

反転アナログ時計 5分刻み

名前 _____

No.001

かがみどけい はり さ じこく か


★鏡時計の針が指している時刻を書きましょう

分 秒

正解数

/9

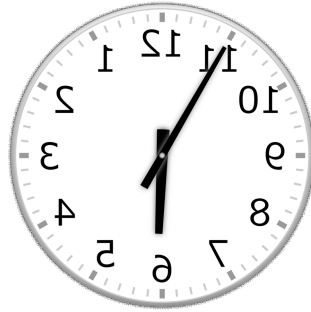
①



10時 50分

(22時 50分)

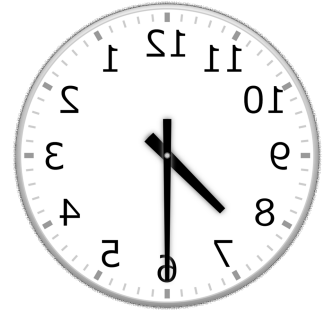
②



5時 55分

(17時 55分)


③



7時 30分

(19時 30分)

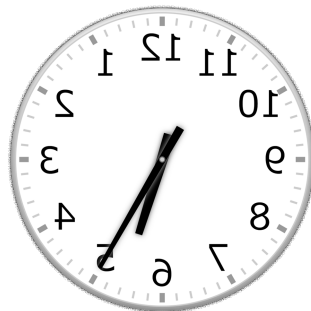
④



6時 40分

(18時 40分)

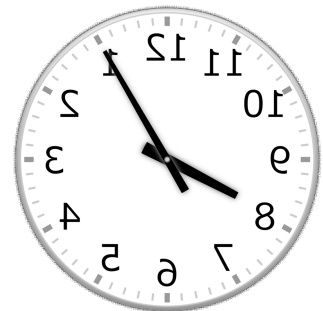
⑤



5時 25分

(17時 25分)

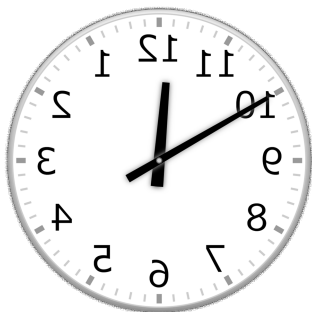
⑥



8時 5分

(20時 5分)

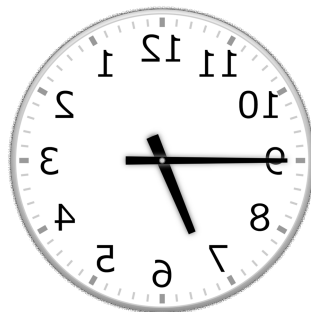
⑦



11時 50分

(23時 50分)

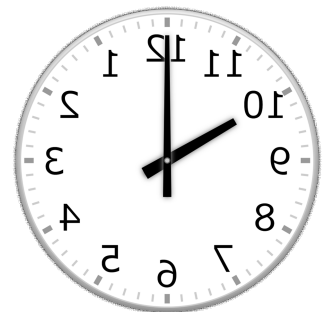
⑧



6時 45分

(18時 45分)

⑨



10時 0分

(22時 0分)